




10 えんだまと 1 えんだまを それぞれあわせると いくらになるでしょう？



こたえ



こたえ




こたえ


■■■■■家庭学習でご利用の場合のみ無償でご利用頂けます。それ以外は無償となりますのでご注意ください。■■■■■



こたえ




こたえ



こたえ


10 えんだまと 1 えんだまを それぞれあわせると いくらになるでしょう？



こたえ 86 えん



こたえ 64 えん




こたえ 48 えん


■■■■■家庭学習でご利用の場合のみ無償でご利用頂けます。それ以外是有償となりますのでご注意ください。■■■■■



こたえ 92 えん



こたえ 47 えん



こたえ 79 えん