



10 えんだまと 1 えんだまを それぞれあわせると いくらになるでしょう？



こたえ




こたえ




こたえ

■■■■家庭学習でご利用の場合のみ無償でご利用頂けます。それ以外は有償となりますのでご注意ください。■■■■



こたえ




こたえ



こたえ

10 えんだまと 1 えんだまを それぞれあわせると いくらになるでしょう？



こたえ 88 えん




こたえ 95 えん




こたえ 68 えん


■■■■家庭学習でご利用の場合のみ無償でご利用頂けます。それ以外是有償となりますのでご注意ください。■■■■



こたえ 54 えん



こたえ 79 えん



こたえ 47 えん