



10 えんだまと 1 えんだまを それぞれあわせると いくらになるでしょう？



こたえ



こたえ




こたえ


■■■■家庭学習でご利用の場合のみ無償でご利用頂けます。それ以外是有償となりますのでご注意ください。■■■■



こたえ



こたえ




こたえ


10 えんだまと 1 えんだまを それぞれあわせると いくらになるでしょう？



こたえ 94 えん




こたえ 76 えん




こたえ 79 えん


■■■■家庭学習でご利用の場合のみ無償でご利用頂けます。それ以外是有償となりますのでご注意ください。■■■■



こたえ 68 えん



こたえ 49 えん



こたえ 85 えん