


10 えんだまと 1 えんだまを それぞれあわせると いくらになるでしょう？



こたえ



こたえ




こたえ


■■■■家庭学習でご利用の場合のみ無償でご利用頂けます。それ以外是有償となりますのでご注意ください。■■■■



こたえ




こたえ



こたえ


10 えんだまと 1 えんだまを それぞれあわせると いくらになるでしょう？



こたえ 68 えん



こたえ 83 えん




こたえ 76 えん


■■■■家庭学習でご利用の場合のみ無償でご利用頂けます。それ以外是有償となりますのでご注意ください。■■■■



こたえ 94 えん



こたえ 47 えん



こたえ 79 えん