
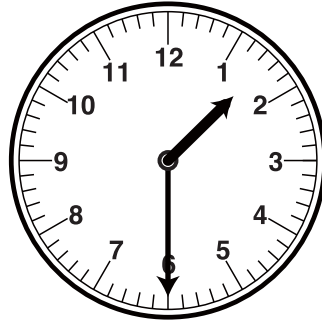



とけいのはりをみて なんじなんぶんか それぞれこたえましょう。




こたえ



こたえ




こたえ




こたえ


■■■■家庭学習でご利用の場合のみ無償でご利用頂けます。それ以外是有償となりますのでご注意ください。■■■■




こたえ



こたえ




こたえ

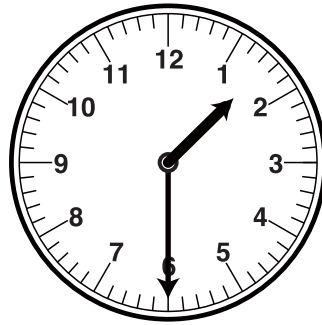


こたえ


とけいのはりをみて なんじなんぷんか それぞれこたえましょう。




こたえ
8じ



こたえ
1じ30ぷん




こたえ
9じ30ぷん




こたえ
10じ


■■■■■家庭学習でご利用の場合のみ無償でご利用頂けます。それ以外是有償となりますのでご注意ください。■■■■■




こたえ
6じ



こたえ
7じ



こたえ
11じ



こたえ
4じ30ぷん