




とけいのはりをみて なんじなんぶんか それぞれこたえましょう。




こたえ



こたえ




こたえ




こたえ


■■■■家庭学習でご利用の場合のみ無償でご利用頂けます。それ以外是有償となりますのでご注意ください。■■■■




こたえ



こたえ




こたえ




こたえ


とけいのはりをもて なんじなんぷんか それぞれこたえましょう。




こたえ  
3じ



こたえ  
10じ30ぷん




こたえ  
2じ30ぷん




こたえ  
8じ


■■■■家庭学習でご利用の場合のみ無償でご利用頂けます。それ以外是有償となりますのでご注意ください。■■■■




こたえ  
4じ



こたえ  
1じ



こたえ  
4じ30ぷん



こたえ  
7じ30ぷん