
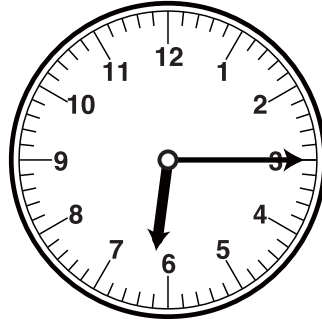



とけいのはりをみて なんじなんぶんか それぞれこたえましょう。



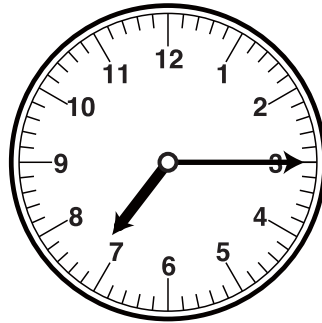
こたえ



こたえ




こたえ




こたえ


■■■■家庭学習でご利用の場合のみ無償でご利用頂けます。それ以外是有償となりますのでご注意ください。■■■■




こたえ



こたえ




こたえ

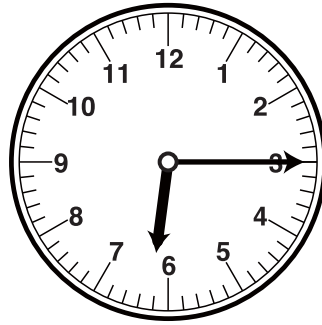


こたえ


とけいのはりをみて なんじなんぶんか それぞれこたえましょう。



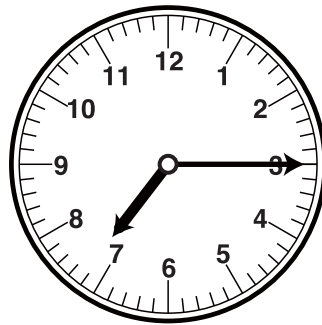
こたえ
12じ15ぶん



こたえ
6じ15ぶん



こたえ
3じ30ぶん




こたえ
7じ15ぶん


■■■■家庭学習でご利用の場合のみ無償でご利用頂けます。それ以外是有償となりますのでご注意ください。■■■■




こたえ
8じ30ぶん



こたえ
10じ30ぶん



こたえ
10じ15ぶん



こたえ
4じ15ぶん