




とけいのはりをみて なんじなんぶんか それぞれこたえましょう。




こたえ



こたえ




こたえ




こたえ


■■■■家庭学習でご利用の場合のみ無償でご利用頂けます。それ以外是有償となりますのでご注意ください。■■■■




こたえ



こたえ




こたえ




こたえ


とけいのはりをみて なんじなんぶんか それぞれこたえましょう。




こたえ  
11じ45ぶん



こたえ  
2じ45ぶん




こたえ  
2じ15ぶん




こたえ  
4じ30ぶん


■■■■家庭学習でご利用の場合のみ無償でご利用頂けます。それ以外是有償となりますのでご注意ください。■■■■




こたえ  
8じ30ぶん



こたえ  
1じ45ぶん



こたえ  
4じ45ぶん



こたえ  
7じ45ぶん