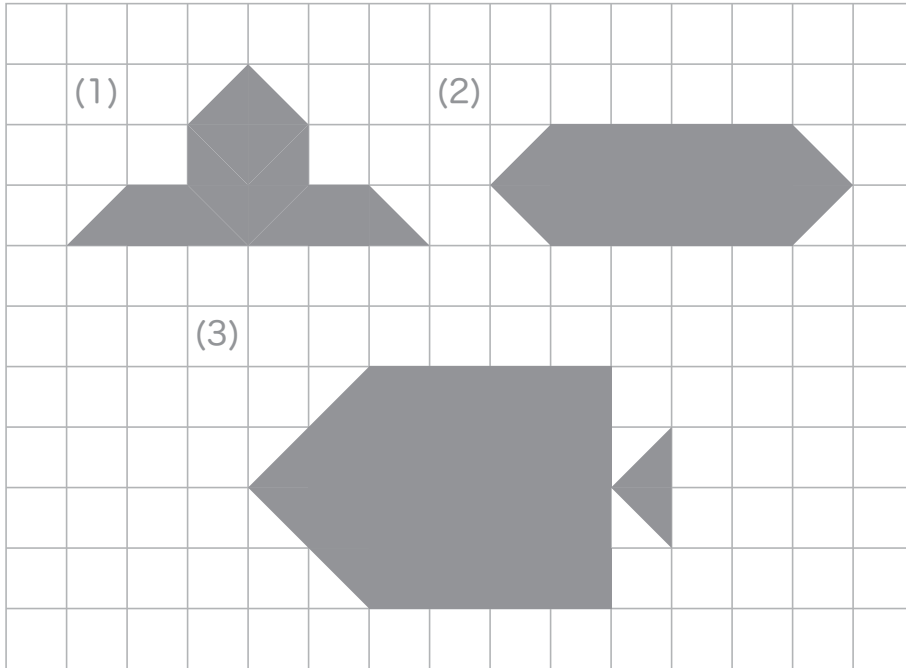


★つぎのかくもんだいの、しつもんにかたえて、こたえをかきましょう。

つぎの形は、▲がなんまいでできているでしょう。せんを引いてかぞえましょう。



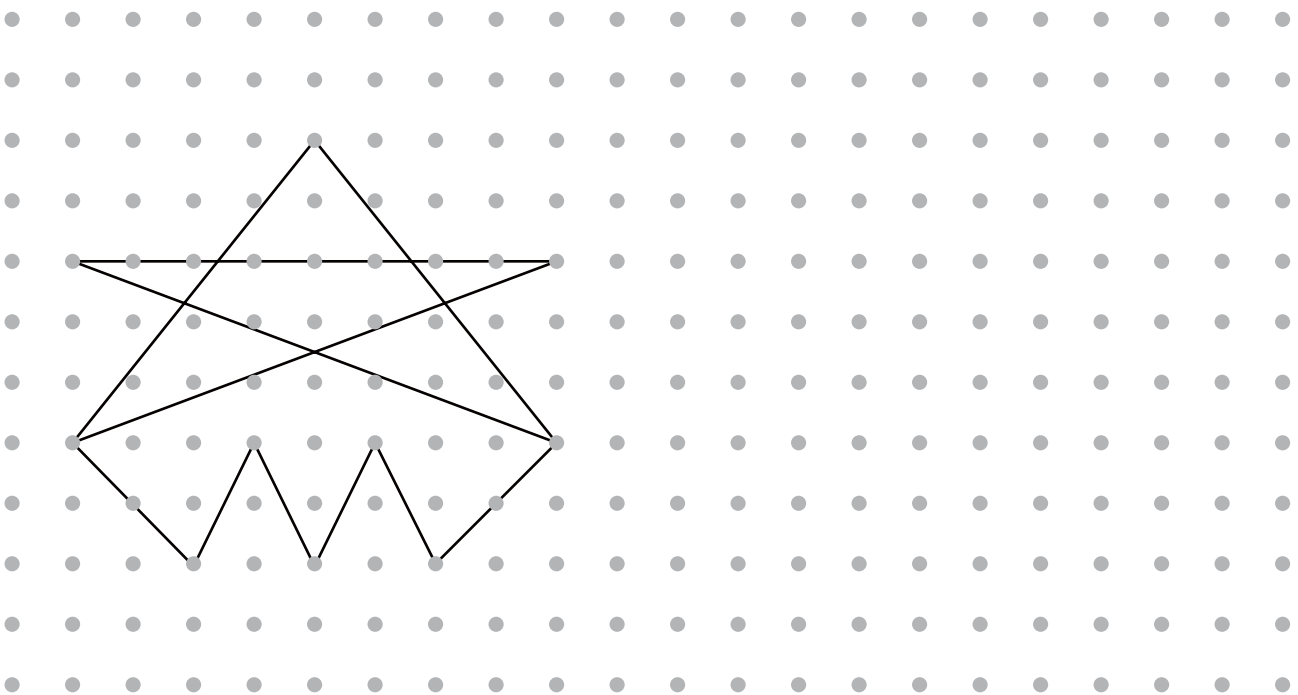
こたえ (1) _____

こたえ (2) _____

こたえ (3) _____

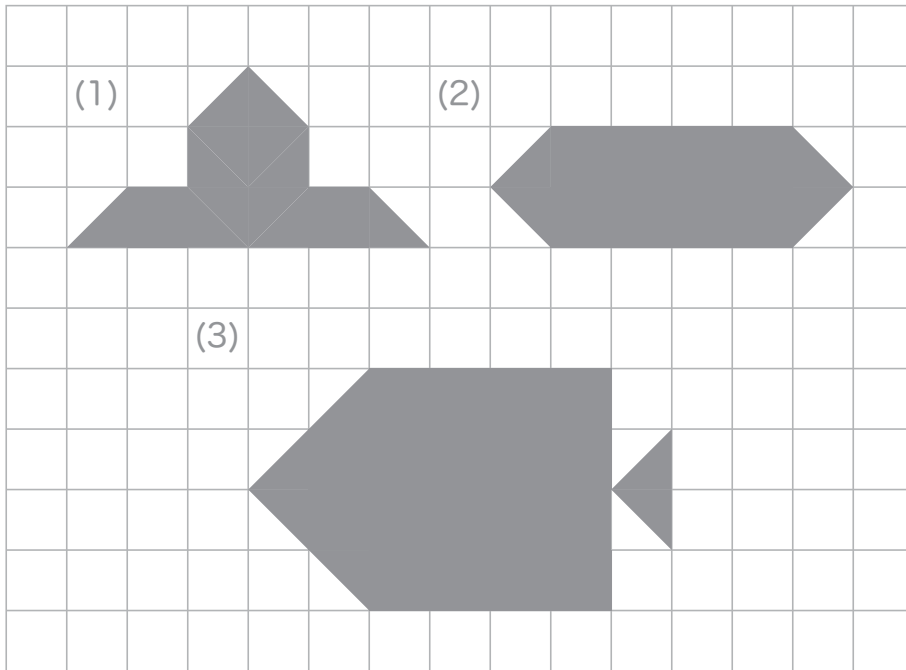
■■■■家庭学習でご利用の場合のみ無償でご利用頂けます。それ以外は無償となりませんのでご注意ください。■■■■

点を、それぞれ線につないで、下の形と同じ形をかきましょう。



★つぎのかくもんだいの、しつもんにかたえて、こたえをかきましょう。

つぎの形は、▲がなんまいでできているでしょう。せんを引いてかぞえましょう。



こたえ (1) 16 まい

こたえ (2) 20 まい

こたえ (3) 42 まい

■■■■家庭学習でご利用の場合のみ無償でご利用頂けます。それ以外は無償とはなりませんのでご注意ください。■■■■

点を、それぞれ線につないで、下の形と同じ形をかきましょう。

