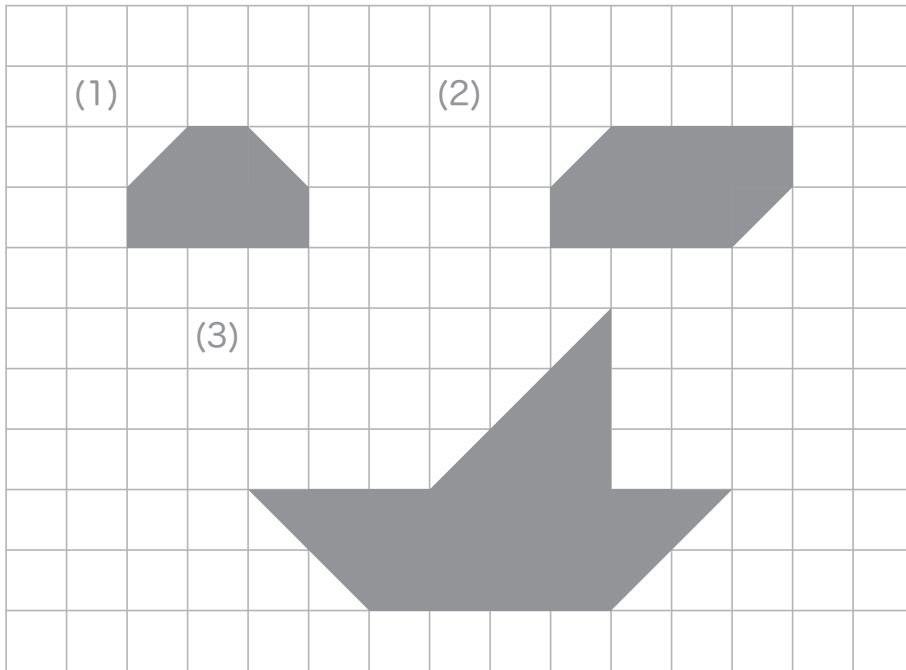


★つぎのかくもんだいの、しつもんにかたえて、こたえをかきましょう。

つぎの形は、▲がなんまいでできているでしょう。せんを引いてかぞえましょう。



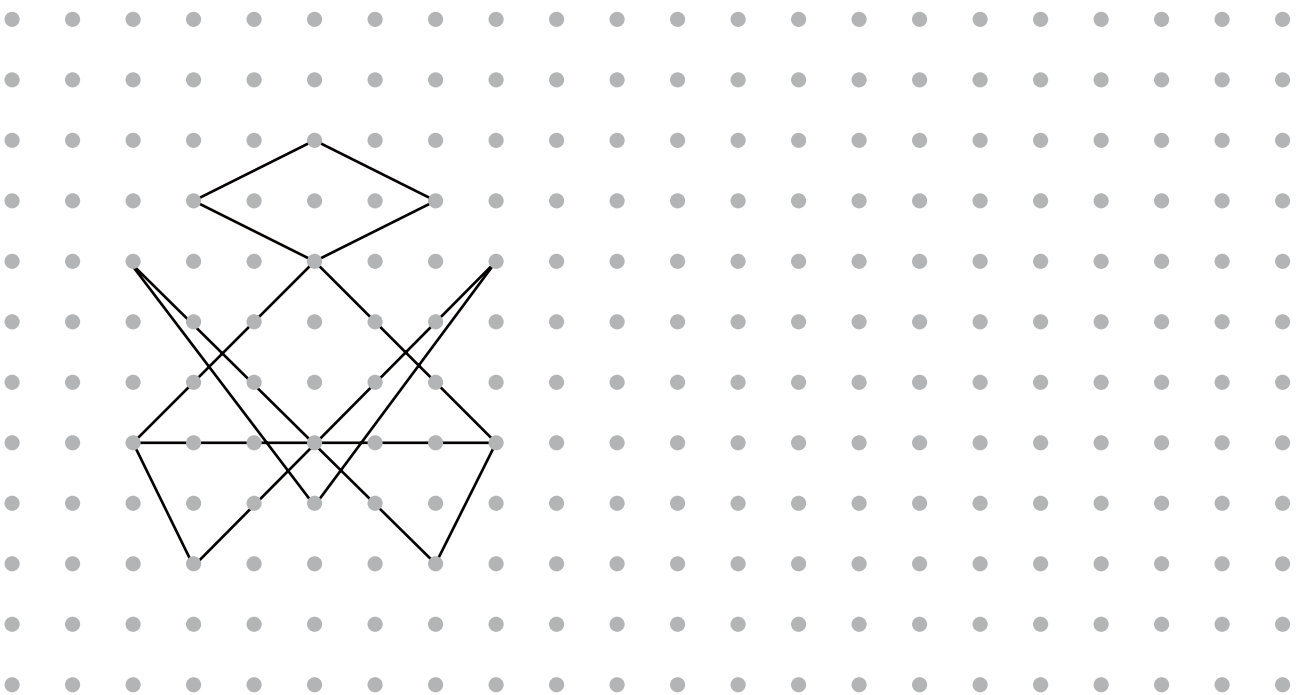
こたえ (1) \_\_\_\_\_

こたえ (2) \_\_\_\_\_

こたえ (3) \_\_\_\_\_

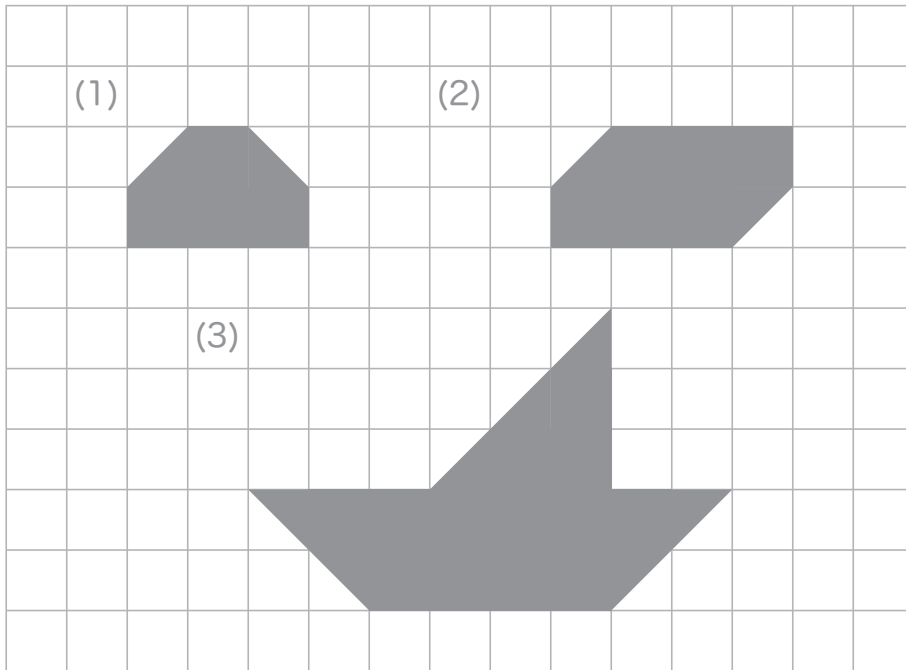
■■■■家庭学習でご利用の場合のみ無償でご利用頂けます。それ以外は有償となりますのでご注意ください。■■■■

点を、それぞれ線につないで、下の形と同じ形をかきましょう。



★つぎのかくもんだいの、しつもんにかたえて、こたえをかきましょう。

つぎの形は、▲がなんまいでできているでしょう。せんを引いてかぞえましょう。



こたえ(1) 10まい

こたえ(2) 14まい

こたえ(3) 33まい

■■■■家庭学習でご利用の場合のみ無償でご利用頂けます。それ以外は無償とはなりませんのでご注意ください。■■■■

点を、それぞれ線をつないで、下の形と同じ形をかきましょう。

