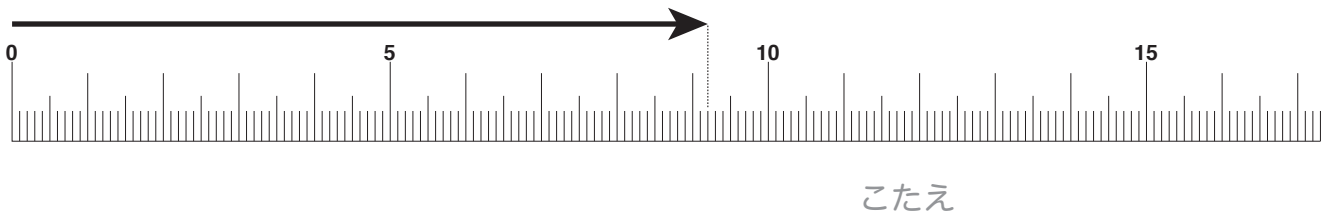
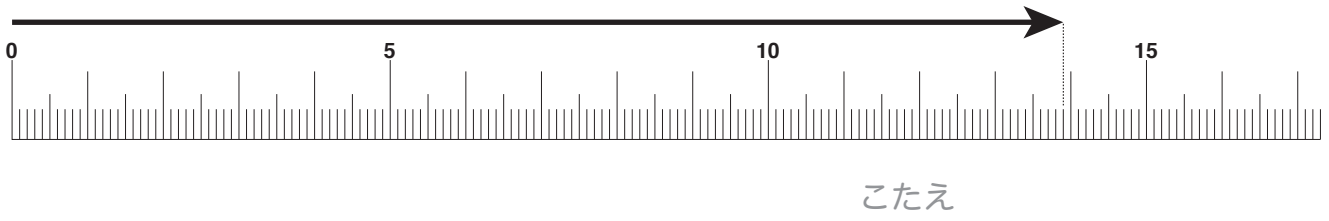
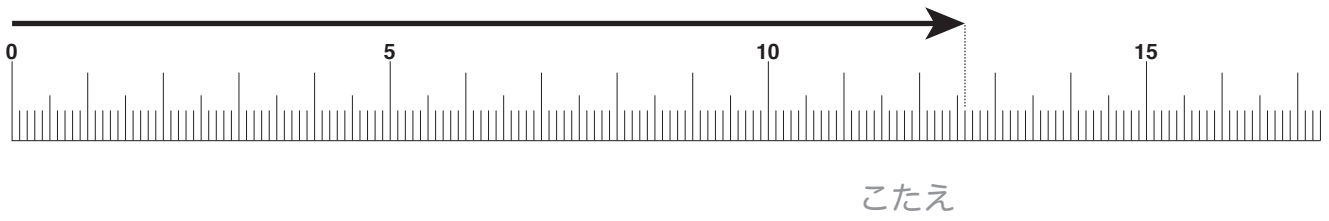


下にかいてある、直線(ちよくせん)の長さがどのくらいか、はかってみましょう。



■■■■家庭学習でご利用の場合のみ無償でご利用頂けます。それ以外是有償となりますのでご注意ください。■■■■

10cm5mm の直線(ちよくせん)をかいてみましょう。



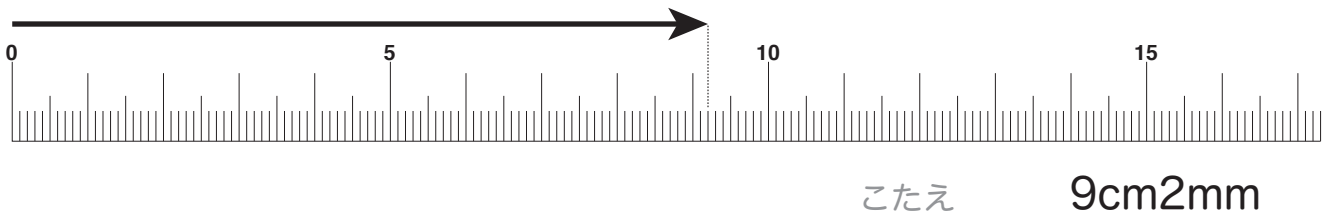
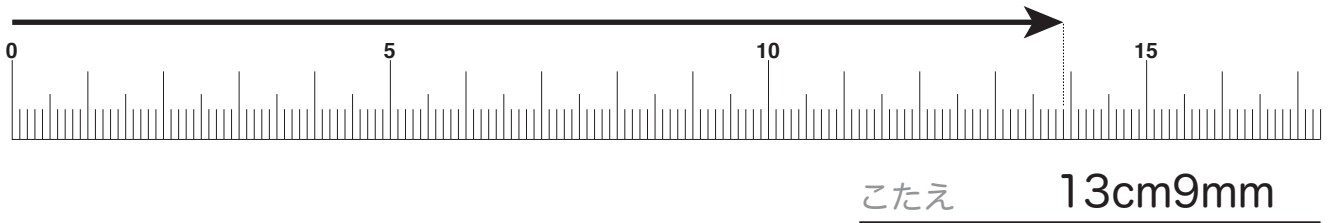
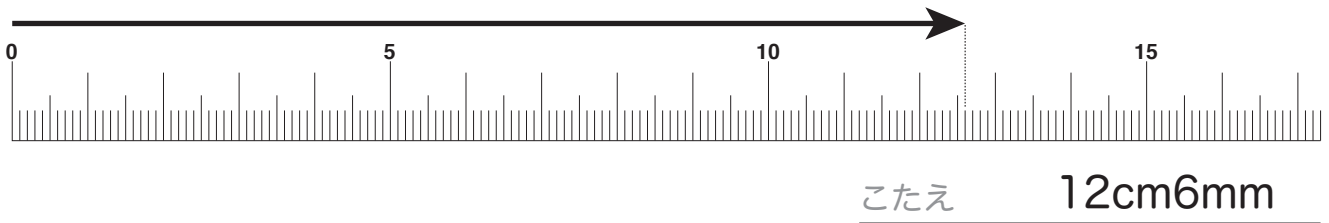
9cm7mm の直線(ちよくせん)をかいてみましょう。



13cm3mm の直線(ちよくせん)をかいてみましょう。



下にかいてある、直線(ちよくせん)の長さがどのくらいか、はかってみましょう。



■■■■家庭学習でご利用の場合のみ無償でご利用頂けます。それ以外是有償となりますのでご注意ください。■■■■

10cm5mm の直線(ちよくせん)をかいてみましょう。



9cm7mm の直線(ちよくせん)をかいてみましょう。



13cm3mm の直線(ちよくせん)をかいてみましょう。

