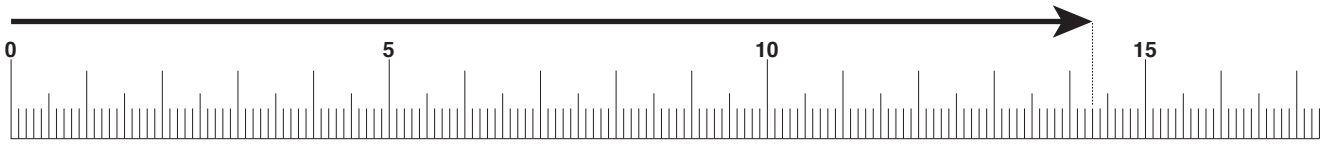
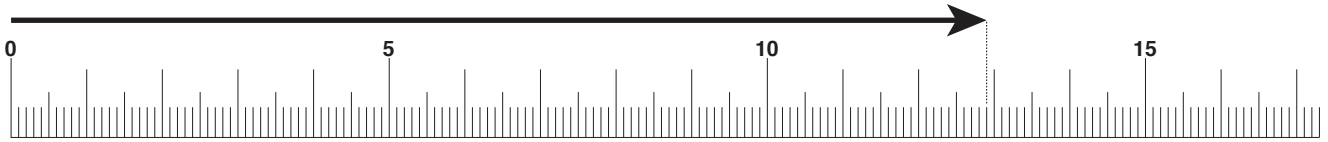


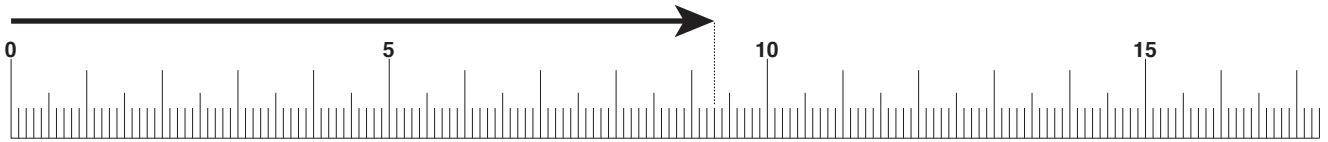
下にかいてある、直線(ちよくせん)の長さがどのくらいか、はかってみましょう。



こたえ



こたえ



こたえ

■■■■家庭学習でご利用の場合のみ無償でご利用頂けます。それ以外は有償となりますのでご注意ください。■■■■

11cm3mm の直線(ちよくせん)をかいてみましょう。



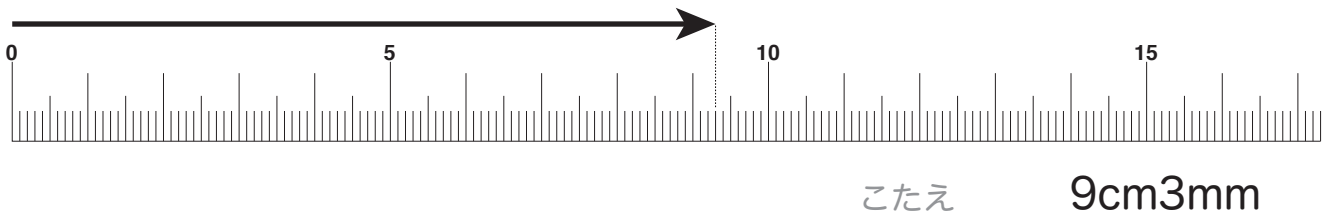
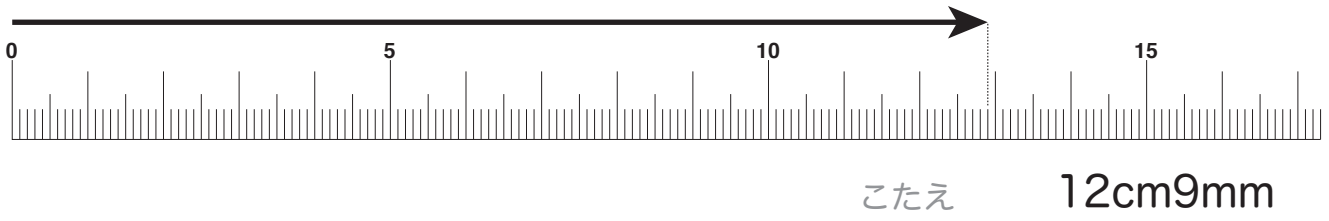
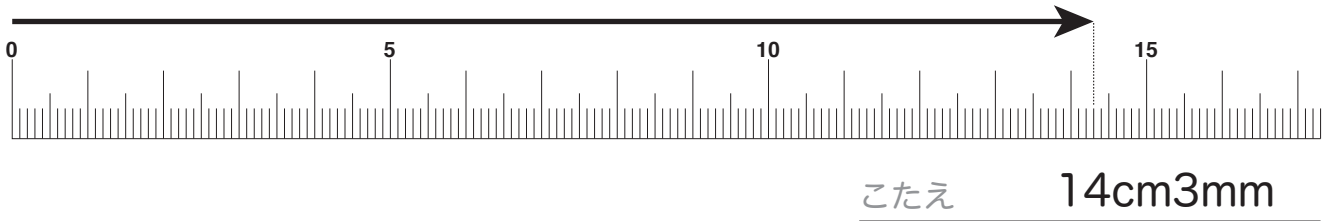
6cm6mm の直線(ちよくせん)をかいてみましょう。



14cm9mm の直線(ちよくせん)をかいてみましょう。



下にかいてある、直線(ちよくせん)の長さがどのくらいか、はかってみましょう。



■■■■家庭学習でご利用の場合のみ無償でご利用頂けます。それ以外是有償となりますのでご注意ください。■■■■

11cm3mm の直線(ちよくせん)をかいてみましょう。



6cm6mm の直線(ちよくせん)をかいてみましょう。



14cm9mm の直線(ちよくせん)をかいてみましょう。

