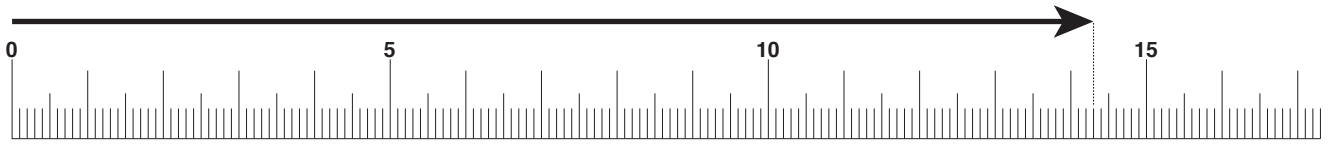
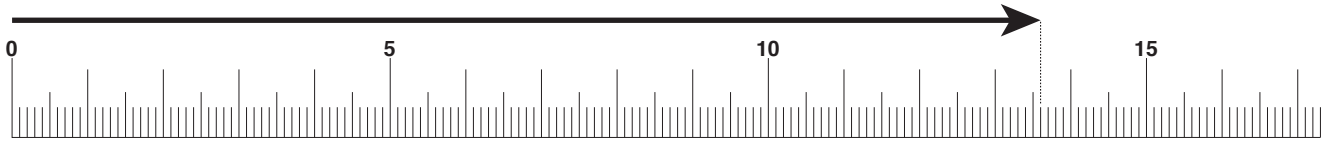


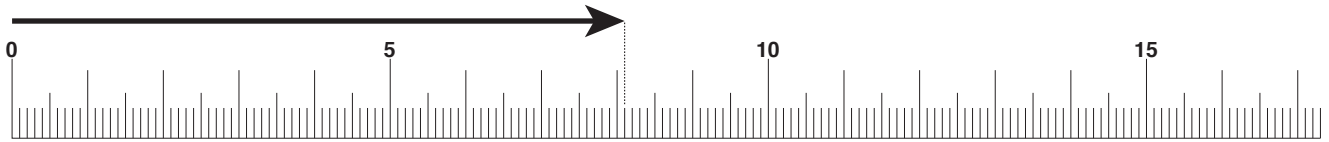
下にかいてある、直線(ちよくせん)の長さがどのくらいか、はかってみましょう。



こたえ



こたえ



こたえ

■■■■家庭学習でご利用の場合のみ無償でご利用頂けます。それ以外是有償となりますのでご注意ください。■■■■

12cm9mm の直線(ちよくせん)をかいてみましょう。



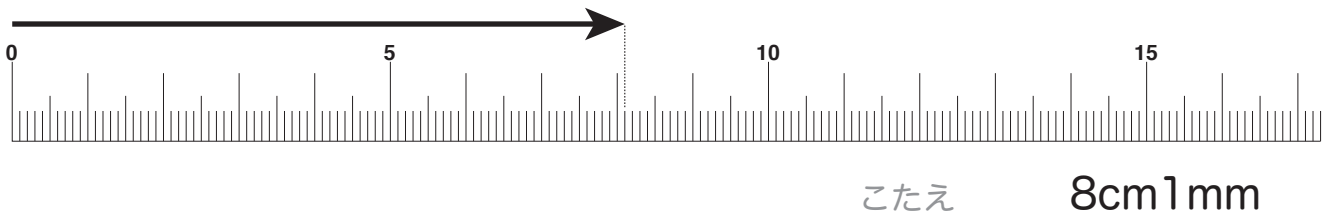
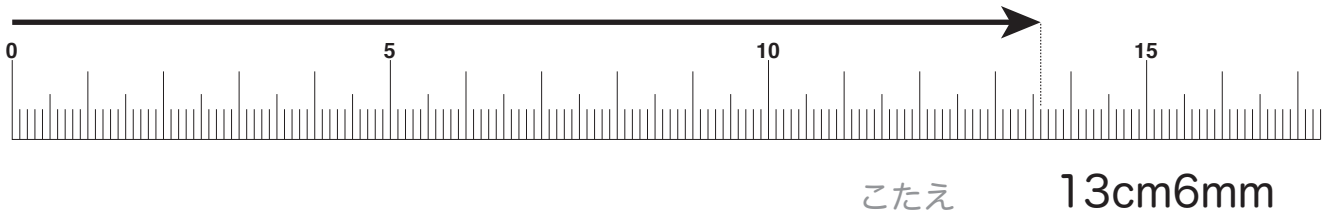
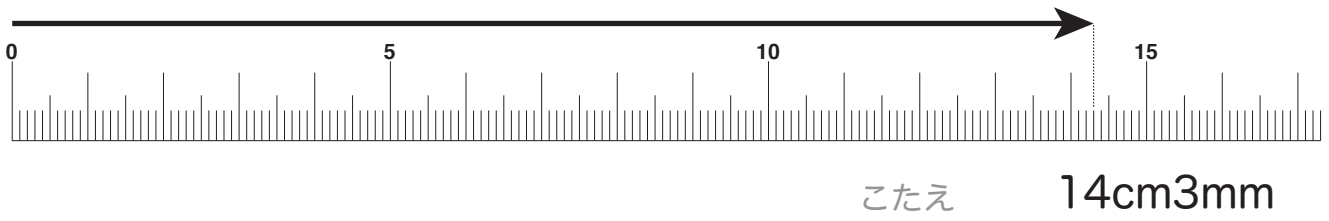
10cm5mm の直線(ちよくせん)をかいてみましょう。



7cm3mm の直線(ちよくせん)をかいてみましょう。



下にかいてある、直線(ちよくせん)の長さがどのくらいか、はかってみましょう。



■■■■家庭学習でご利用の場合のみ無償でご利用頂けます。それ以外是有償となりますのでご注意ください。■■■■

12cm9mm の直線(ちよくせん)をかいてみましょう。



10cm5mm の直線(ちよくせん)をかいてみましょう。



7cm3mm の直線(ちよくせん)をかいてみましょう。

