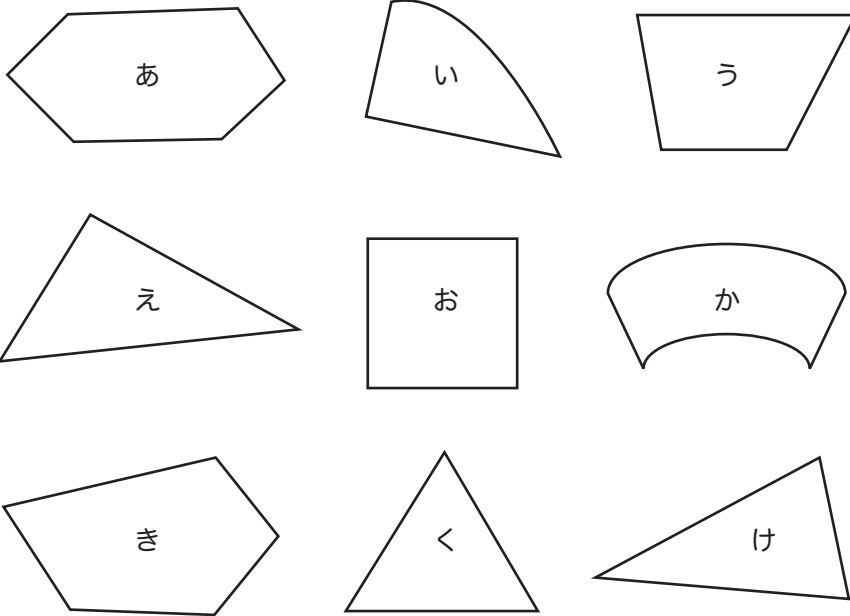


★つぎのかくもんだいの、しつもんにかたえて、こたえをかきましょう。

下のなかから、三角形と四角形をみつけて、それぞれきこうでこたえましょう。



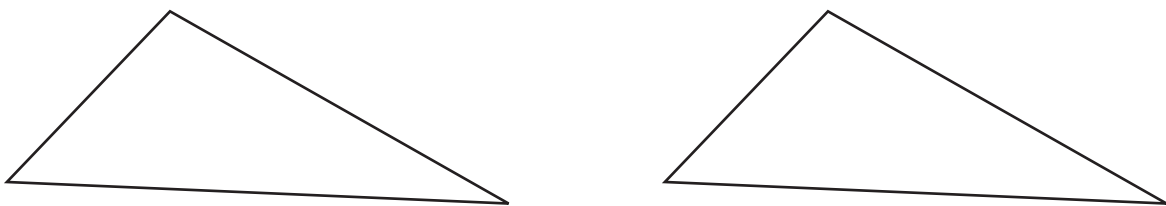
三角形 _____

四角形 _____

■■■■家庭学習でご利用の場合のみ無償でご利用頂けます。それ以外は有償となりますのでご注意ください。■■■■

下の三角形に直線を1本かいて、つぎの形をつくりましょう。

- (1) 2つの三角形にわけてください。 (2) 三角形と四角形にわけてください。



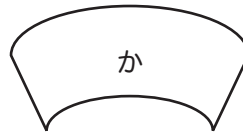
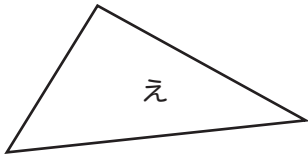
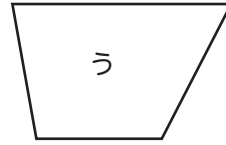
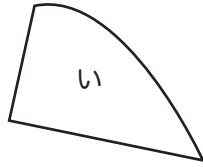
下の三角形に直線を1本かいて、つぎの形をつくりましょう。

- (1) 2つの三角形にわけてください。 (2) 三角形と四角形にわけてください。

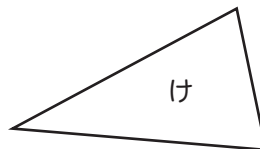
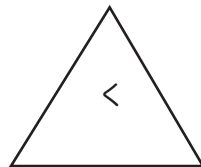
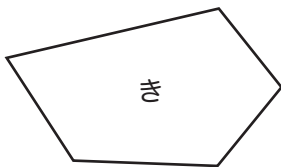


★つぎのかくもんだいの、しつもんにかたえて、こたえをかきましょう。

下のなかから、三角形と四角形をみつけて、それぞれきこうでこたえましょう。



三角形 え、く、け

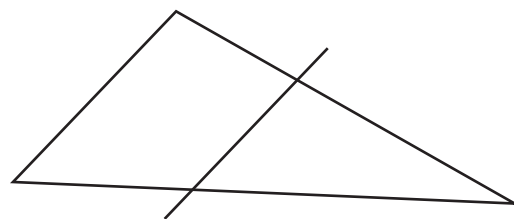
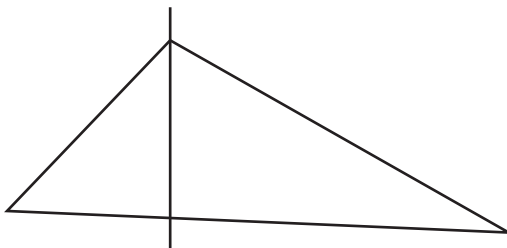


四角形 う、お

■■■■■家庭学習でご利用の場合のみ無償でご利用頂けます。それ以外は無償となりませんのでご注意ください。■■■■■

下の三角形に直線を1本かいて、つぎの形をつくりましょう。

(1) 2つの三角形にわけてください。 (2) 三角形と四角形にわけてください。



下の三角形に直線を1本かいて、つぎの形をつくりましょう。

(1) 2つの三角形にわけてください。 (2) 三角形と四角形にわけてください。

