


★つぎのかくもんだいの、しつもんにかたえて、こたえをかきましょう。

下のなかから、三角形と四角形をみつけて、それぞれきこうでこたえましょう。



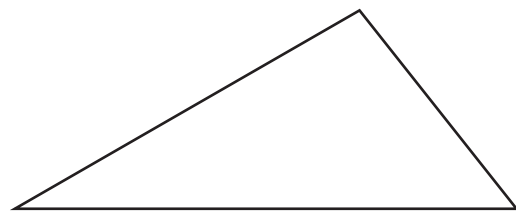
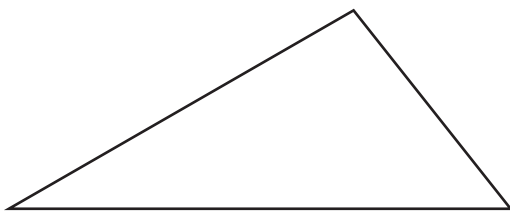
三角形 _____

四角形 _____

■■■■家庭学習でご利用の場合のみ無償でご利用頂けます。それ以外は無償となりますのでご注意ください。■■■■

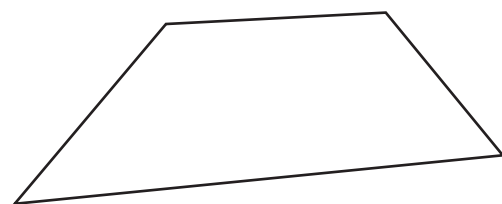
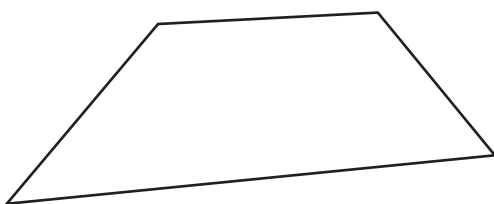
下の三角形に直線を1本かいて、つぎの形をつくりましょう。

- (1) 2つの三角形にわけてください。 (2) 三角形と四角形にわけてください。




下の三角形に直線を1本かいて、つぎの形をつくりましょう。

- (1) 2つの三角形にわけてください。 (2) 三角形と四角形にわけてください。



★つぎのかくもんだいの、しつもんにかたえて、こたえをかきましょう。

下のなかから、三角形と四角形をみつけて、それぞれきこうでこたえましょう。



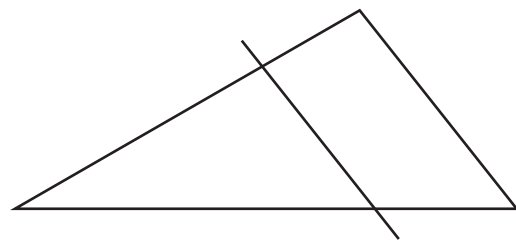
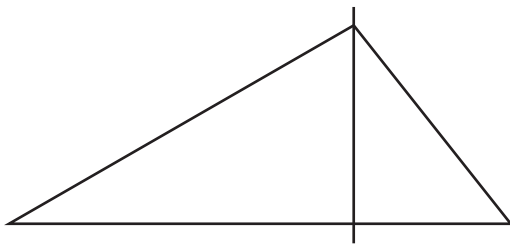
三角形 い、か

四角形 え、け

■■■■家庭学習でご利用の場合のみ無償でご利用頂けます。それ以外は無償となりますのでご注意ください。■■■■

下の三角形に直線を1本かいて、つぎの形をつくりましょう。

(1) 2つの三角形にわけてください。 (2) 三角形と四角形にわけてください。



下の三角形に直線を1本かいて、つぎの形をつくりましょう。

(1) 2つの三角形にわけてください。 (2) 三角形と四角形にわけてください。

