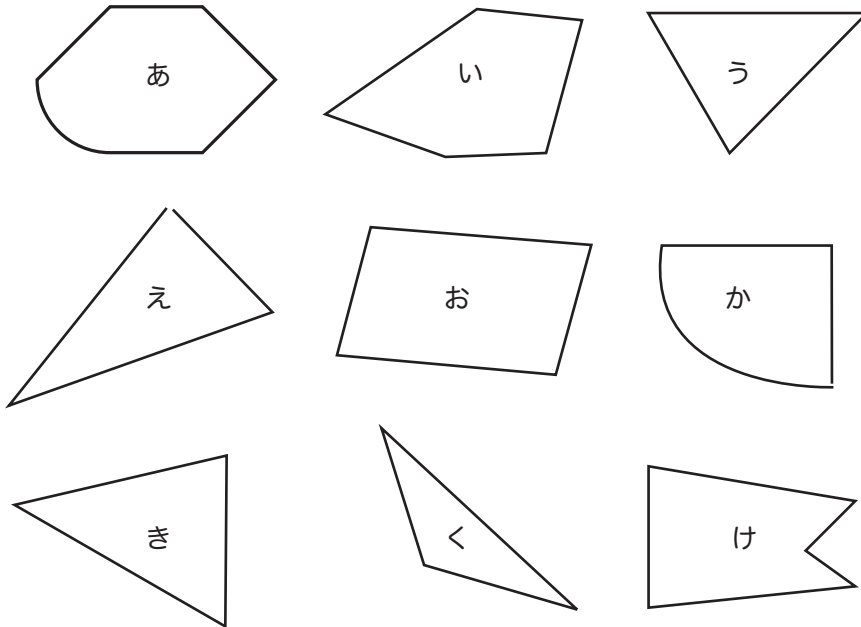


★つぎのかくもんだいの、しつもんにかたえて、こたえをかきましょう。

下のなかから、三角形と四角形をみつけて、それぞれきこうでこたえましょう。




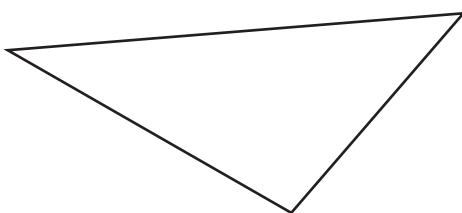
三角形 \_\_\_\_\_

四角形 \_\_\_\_\_

■■■■家庭学習でご利用の場合のみ無償でご利用頂けます。それ以外は有償となりますのでご注意ください。■■■■

下の三角形と四角形に、直線を1本かいて、つぎの形をつくりましょう。

(1) 2つの三角形にわけてください。 (2) 三角形と四角形にわけてください。



正方形の直線の長さは  です。

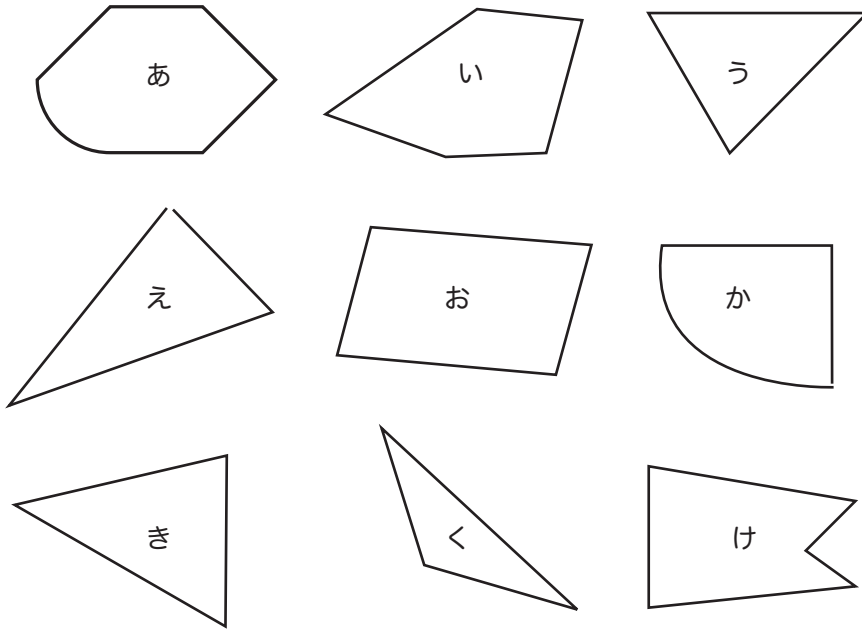
こたえ \_\_\_\_\_

三角形や四角形の、角の点のところを  といいます。

こたえ \_\_\_\_\_

★つぎのかくもんだいの、しつもんにかたえて、こたえをかきましょう。

下のなかから、三角形と四角形をみつけて、それぞれきこうでこたえましょう。



三角形 う、え、き、く

四角形 お

■■■■家庭学習でご利用の場合のみ無償でご利用頂けます。それ以外は有償となりますのでご注意ください。■■■■

下の三角形と四角形に、直線を1本かいて、つぎの形をつくりましょう。

(1) 2つの三角形にわけてください。 (2) 三角形と四角形にわけてください。



正方形の直線の長さは  です。

こたえ 同じ

三角形や四角形の、角の点のところを  といいます。

こたえ ちょう点