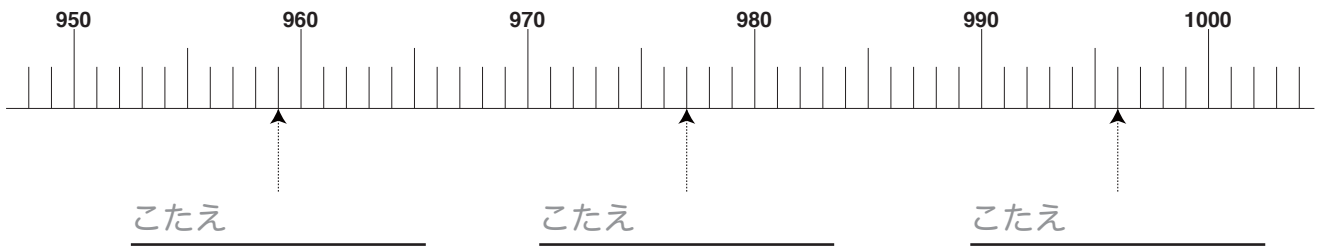


★矢じるしがさしている数を、数字でこたえましょう。



★それぞれの数をくらべて、 =、 <、 >をつかってこたえましょう。

990  970 + 20

505  550 - 50

170 + 50  210

340 - 20  330

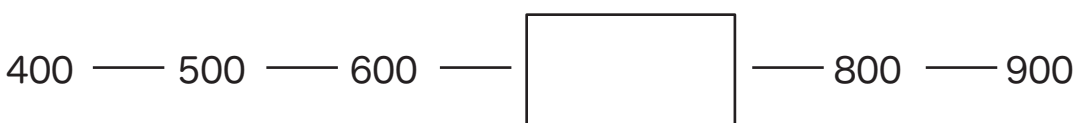
■■■■家庭学習でご利用の場合のみ無償でご利用頂けます。それ以外には有償となりますのでご注意ください。■■■■

737は100を  こと、10を  こと、1を  こあわせた数です。

こたえ \_\_\_\_\_

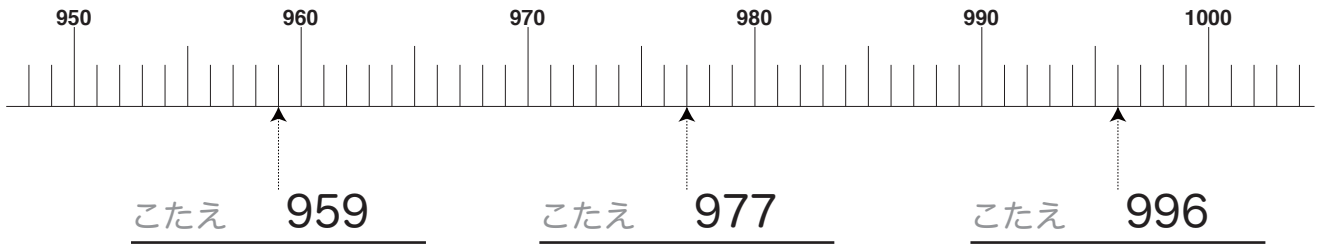
740は、10を  こあつめた数です。

こたえ \_\_\_\_\_



こたえ \_\_\_\_\_

★矢じるしがさしている数を、数字でこたえましょう。



★それぞれの数をくらべて、 =、 <、 >をつかってこたえましょう。

990  970 + 20

505  550 - 50

170 + 50  210

340 - 20  330

■■■■家庭学習でご利用の場合のみ無償でご利用頂けます。それ以外是有償となりますのでご注意ください。■■■■

737は100を  こと、10を  こと、1を  こあわせた数です。  
こたえ 7、3、7

740は、10を  こあつめた数です。  
こたえ 74

400 — 500 — 600 —  — 800 — 900  
こたえ 700