



★時計のはりをみて 何時、何分か それぞれこたえましょう。




←今から2時間後は
何時何分？

こたえ




←3時15分まで
あと何時間、何分？

こたえ



←13時20分まで
あと何分？

こたえ



←今から90分後は
何時何分？

こたえ

■■■■■ 家庭学習や個人塾でのご利用を想定しております。再販等は禁止しておりますのでご注意ください。■■■■■

17時は、午後3時の

時間後です。

こたえ

3時間は、

分です。


こたえ

半日は、

時間です。

こたえ


★時計のはりをみて 何時、何分か それぞれこたえましょう。



←今から2時間後は
何時何分？

こたえ


7時35分



←3時15分まで
あと何時間、何分？

こたえ


2時間50分



←13時20分まで
あと何分？

こたえ

120分



←今から90分後は
何時何分？

こたえ

3時15分

■■■■■ 家庭学習や個人塾でのご利用を想定しております。再販等は禁止しておりますのでご注意ください。■■■■■

17時は、午後3時の

時間後です。

こたえ

2

3時間は、

分です。

こたえ

180

半日は、

時間です。

こたえ

12