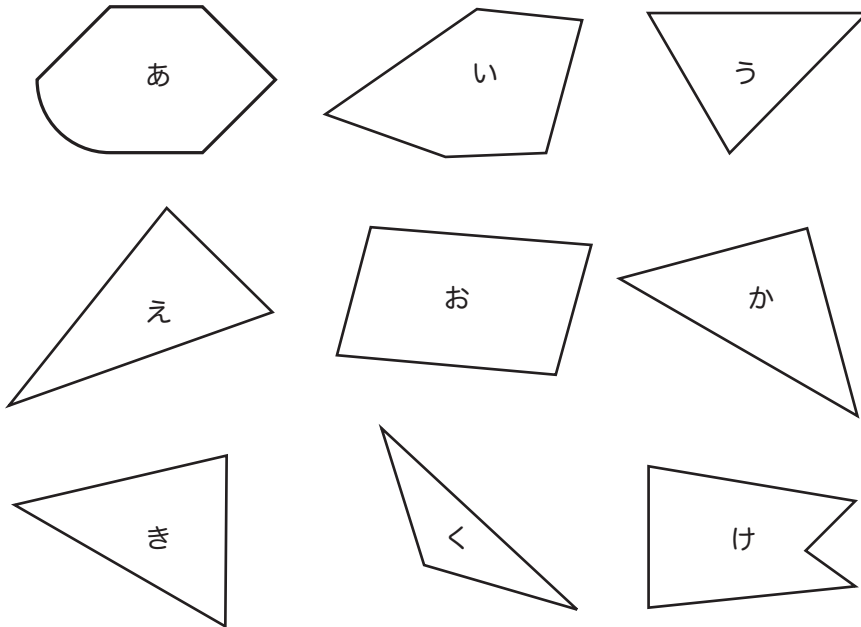


★つぎのかくもんだいの、しつもんにかたえて、こたえをかきましょう。

下のなかから、直角三角形をみつけて、記号でこたえましょう。

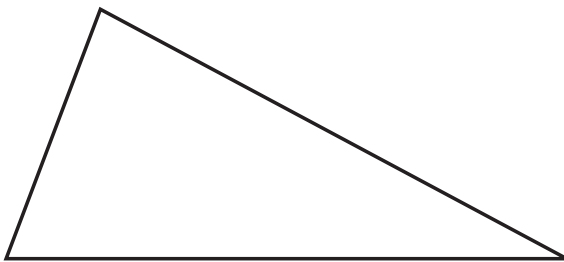


こたえ _____


■■■■家庭学習でご利用の場合のみ無償でご利用頂けます。それ以外は無償となりませんのでご注意ください。■■■■

下の三角形と四角形に、直線を1本かいて、2つの直角三角形をつくりましょう。

(1)



(2)



長方形などの形で、まわりの一つひとつの直線を



といいます。

こたえ _____

角がすべて直角で、辺の長さがすべて同じ四角形を

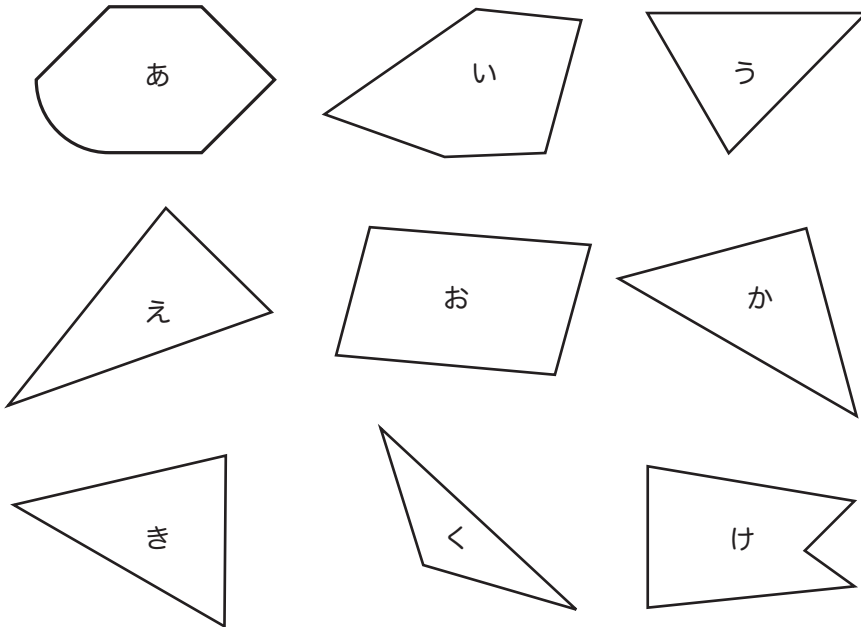


といいます。

こたえ _____

★つぎのかくもんだいの、しつもんにかたえて、こたえをかきましょう。

下のなかから、直角三角形をみつけて、記号でこたえましょう。

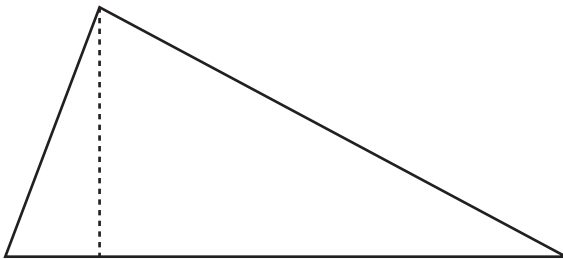


こたえ え、か

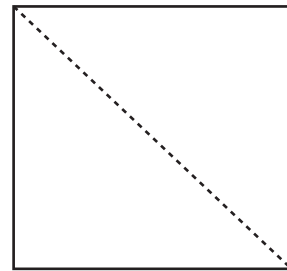
■■■■家庭学習でご利用の場合のみ無償でご利用頂けます。それ以外は有償となりますのでご注意ください。■■■■

下の三角形と四角形に、直線を1本かいて、2つの直角三角形をつくりましょう。

(1)



(2)



長方形などの形で、まわりの一つひとつの直線を



といいます。

こたえ 辺

角がすべて直角で、辺の長さがすべて同じ四角形を



といいます。

こたえ 正方形