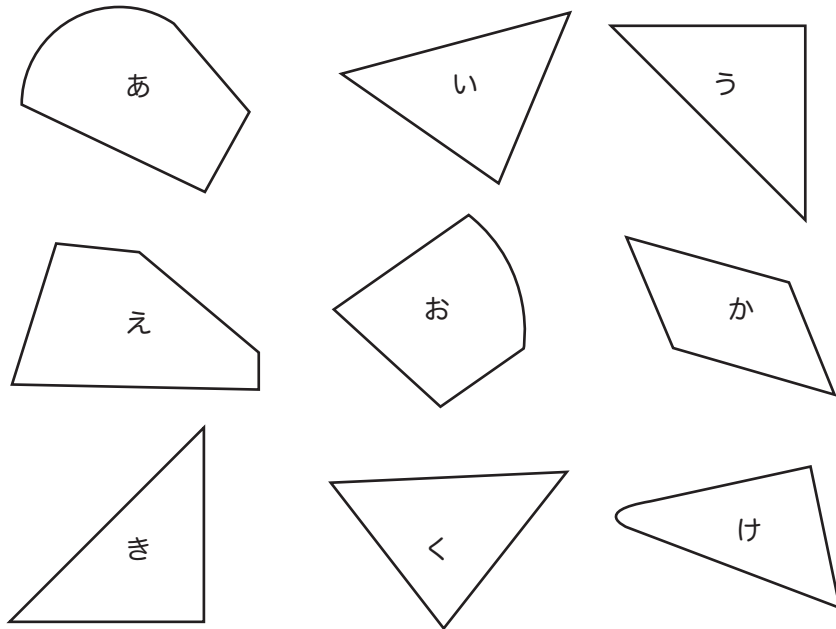


★つぎのかくもんだいの、しつもんにかたえて、こたえをかきましょう。

下のなかから、直角三角形をみつけて、記号でこたえましょう。

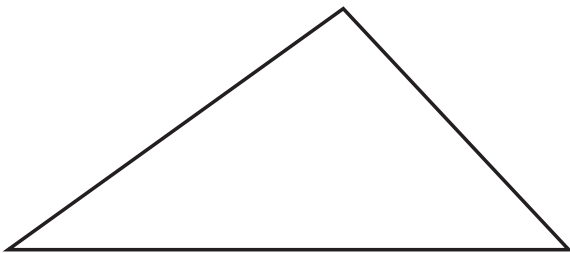


こたえ \_\_\_\_\_

■■■■家庭学習でご利用の場合のみ無償でご利用頂けます。それ以外は無償となりませんのでご注意ください。■■■■

下の三角形と四角形に、直線を1本かいて、2つの直角三角形をつくりましょう。

(1)



(2)



正方形と長方形は、4つの角がすべて  です。

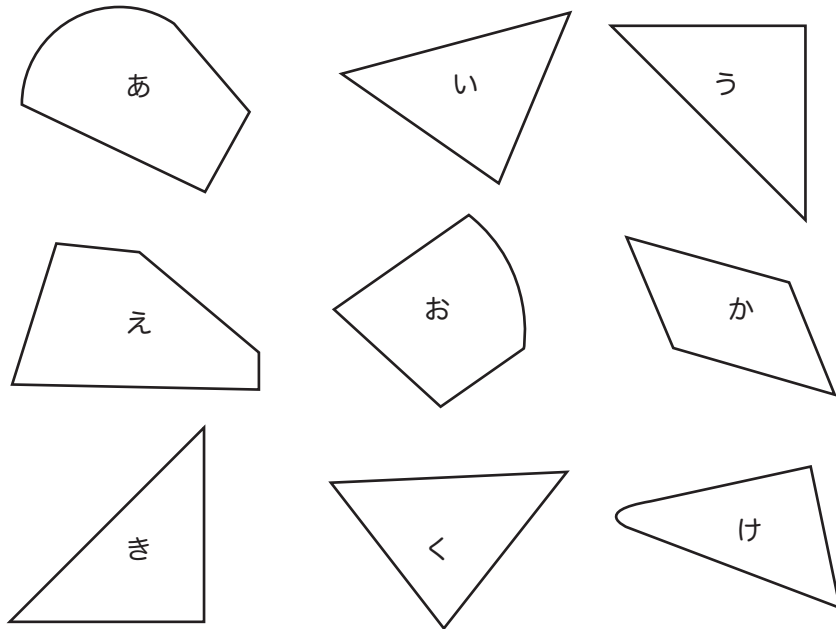
こたえ \_\_\_\_\_

四角形などの形で、それぞれの角の点を  といいます。

こたえ \_\_\_\_\_

★つぎのかくもんだいの、しつもんにかたえて、こたえをかきましょう。

下のなかから、直角三角形をみつけて、記号でこたえましょう。

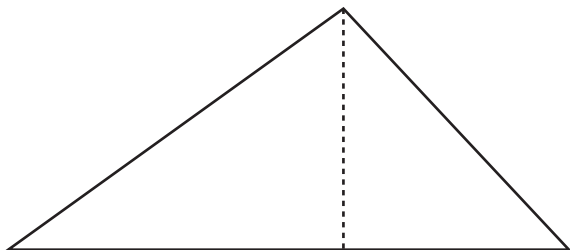


こたえ う、き

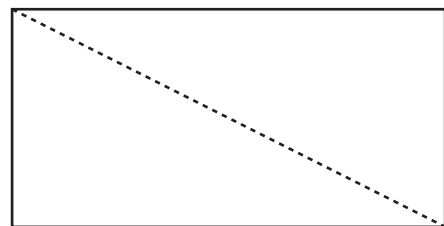
■■■■家庭学習でご利用の場合のみ無償でご利用頂けます。それ以外は無償となりますのでご注意ください。■■■■

下の三角形と四角形に、直線を1本かいて、2つの直角三角形をつくりましょう。

(1)



(2)



正方形と長方形は、4つの角がすべて  です。

こたえ 直角

四角形などの形で、それぞれの角の点を  といいます。

こたえ ちょう点