



10 えんだまと 1 えんだまを それぞれあわせると いくらになるでしょう？



こたえ




こたえ




こたえ

■■■■■家庭学習でご利用の場合のみ無償でご利用頂けます。それ以外は無償となりませんのでご注意ください。■■■■■



こたえ




こたえ



こたえ


10 えんだまと 1 えんだまを それぞれあわせると いくらになるでしょう？



こたえ 46 えん




こたえ 93 えん




こたえ 68 えん

■■■■■家庭学習でご利用の場合のみ無償でご利用頂けます。それ以外是有償となりますのでご注意ください。■■■■■



こたえ 74 えん



こたえ 76 えん



こたえ 52 えん