




10 えんだまと 1 えんだまを それぞれあわせると いくらになるでしょう？



こたえ



こたえ




こたえ


■■■■家庭学習でご利用の場合のみ無償でご利用頂けます。それ以外は無償となりますのでご注意ください。■■■■



こたえ




こたえ




こたえ


10 えんだまと 1 えんだまを それぞれあわせると いくらになるでしょう？



こたえ 97 えん



こたえ 85 えん




こたえ 66 えん


■■■■家庭学習でご利用の場合のみ無償でご利用頂けます。それ以外是有償となりますのでご注意ください。■■■■



こたえ 92 えん



こたえ 78 えん



こたえ 69 えん