



10 えんだまと 1 えんだまを それぞれあわせると いくらになるでしょう？



こたえ



こたえ




こたえ

■■■■■家庭学習でご利用の場合のみ無償でご利用頂けます。それ以外是有償となりますのでご注意ください。■■■■■



こたえ




こたえ




こたえ

10 えんだまと 1 えんだまを それぞれあわせると いくらになるでしょう？



こたえ 55 えん



こたえ 69 えん




こたえ 94 えん

■■■■■家庭学習でご利用の場合のみ無償でご利用頂けます。それ以外是有償となりますのでご注意ください。■■■■■



こたえ 63 えん



こたえ 87 えん



こたえ 58 えん