



とけいのはりをみて なんじなんぶんか それぞれこたえましょう。



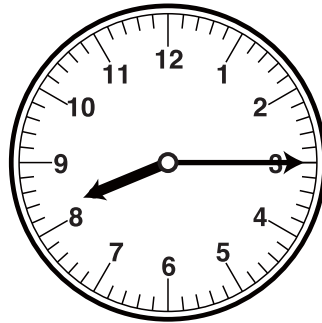
こたえ



こたえ




こたえ




こたえ


■■■■家庭学習でご利用の場合のみ無償でご利用頂けます。それ以外是有償となりますのでご注意ください。■■■■




こたえ



こたえ



こたえ




こたえ


とけいのはりをみて なんじなんぷんか それぞれこたえましょう。



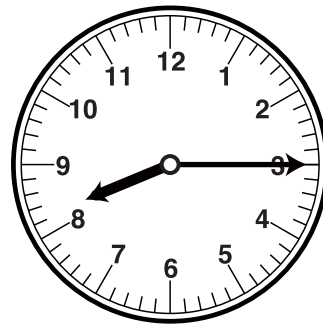
こたえ  
5じ30ぶん



こたえ  
4じ30ぶん




こたえ  
9じ45ぶん




こたえ  
8じ15ぶん


■■■■家庭学習でご利用の場合のみ無償でご利用頂けます。それ以外是有償となりますのでご注意ください。■■■■



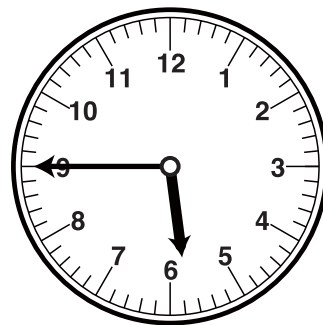
こたえ  
11じ30ぶん



こたえ  
10じ15ぶん



こたえ  
12じ45ぶん



こたえ  
5じ45ぶん