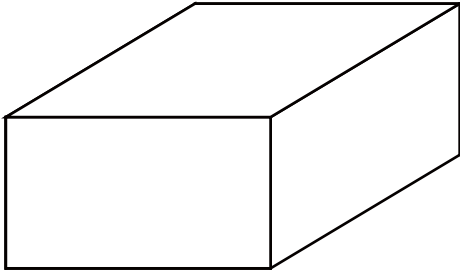


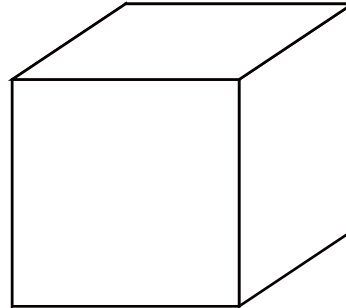
★つぎのかくもんだいの、しつもんにかたえて、こたえをかきましょう。

下のはこの形について、ひょうにあてはる、数やことばをかきましょう。

①



②



図のしゅるい	ちょう点の数	辺の数	面の数	面の形
①				
②				

■■■■家庭学習でご利用の場合のみ無償でご利用頂けます。それ以外是有償となりますのでご注意ください。■■■■

①の図形には、同じ形の面が、いくつずつありますか。

こたえ _____

②の図形には、同じ形の面が、いくつずつありますか。

こたえ _____

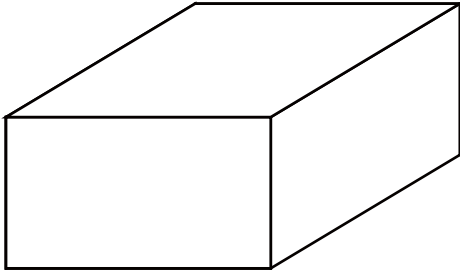
①の図形には、同じ長さの辺が、いくつずつありますか。

こたえ _____

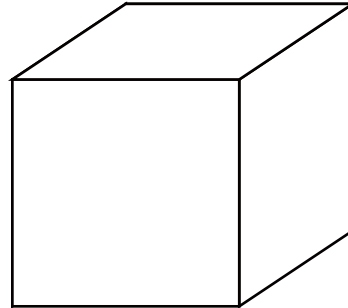
★つぎのかくもんだいの、しつもんにかたえて、こたえをかきましょう。

下のはこの形について、ひょうにあてはる、数やことばをかきましょう。

①



②



図のしゅるい	ちょう点の数	辺の数	面の数	面の形
①	8	12	6	長方形
②	8	12	6	正方形

■■■■家庭学習でご利用の場合のみ無償でご利用頂けます。それ以外是有償となりますのでご注意ください。■■■■

①の図形には、同じ形の面が、いくつずつありますか。

こたえ 2つ

②の図形には、同じ形の面が、いくつずつありますか。

こたえ 6つ

①の図形には、同じ長さの辺が、いくつずつありますか。

こたえ 4つ