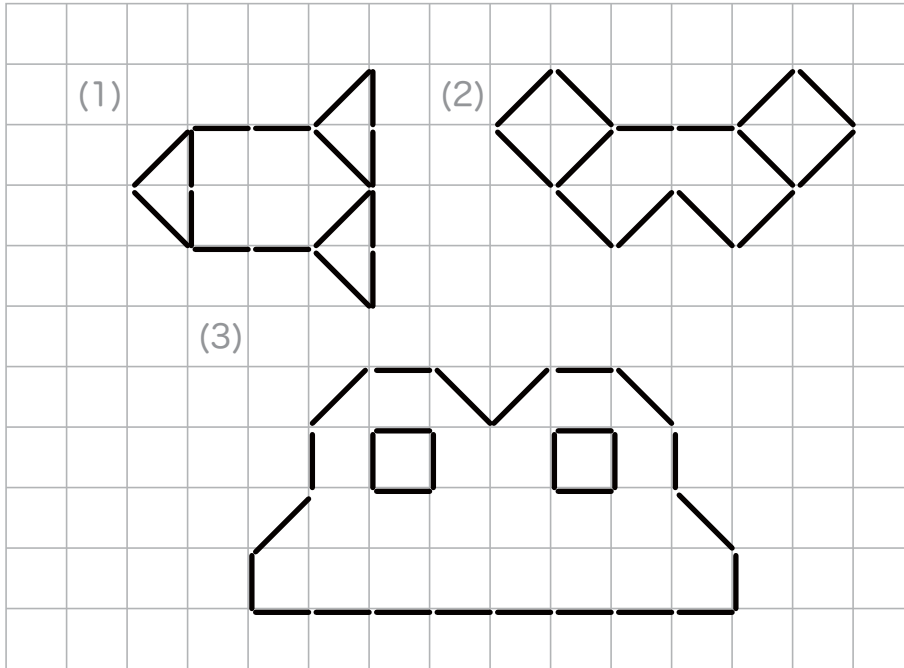


★つぎのかくもんだいの、しつもんにかたえて、こたえをかきましょう。

つぎの形は、ぼうがなん本でできているでしょう。



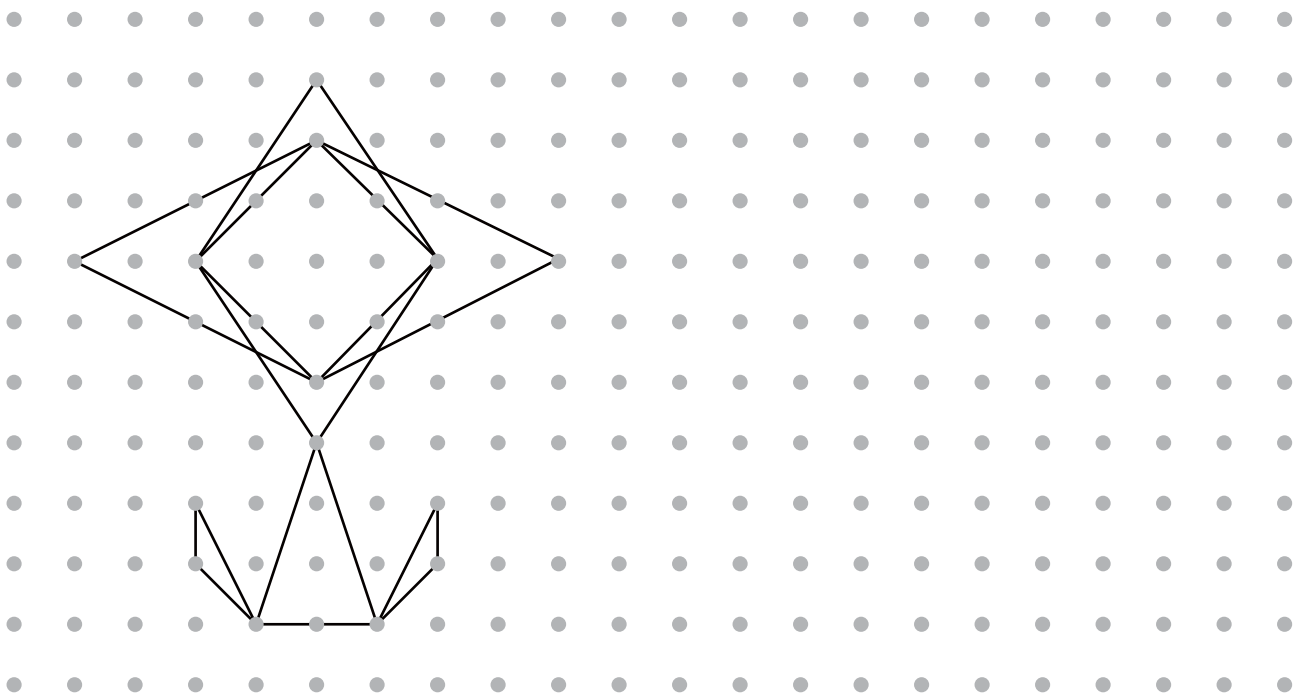
こたえ (1) \_\_\_\_\_

こたえ (2) \_\_\_\_\_

こたえ (3) \_\_\_\_\_

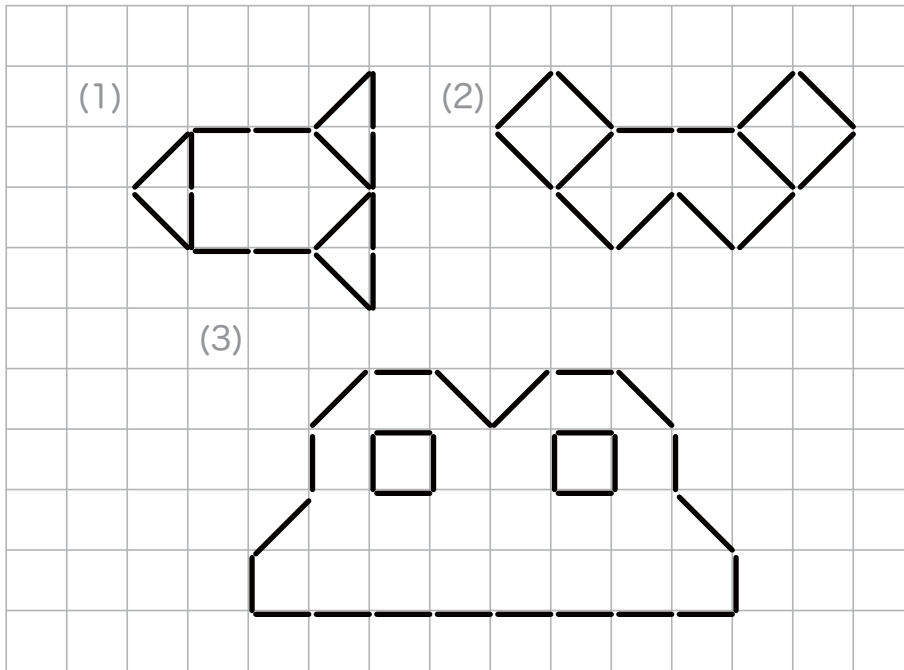
■■■■家庭学習でご利用の場合のみ無償でご利用頂けます。それ以外は無償とはなりませんのでご注意ください。■■■■

点を、それぞれ線につないで、下の形と同じ形をかきましょう。



★つぎのかくもんだいの、しつもんにかたえて、こたえをかきましょう。

つぎの形は、ぼうがなん本でできているでしょう。



こたえ (1) 16本

こたえ (2) 14本

こたえ (3) 28本

■■■■家庭学習でご利用の場合のみ無償でご利用頂けます。それ以外是有償となりますのでご注意ください。■■■■

点を、それぞれ線につないで、下の形と同じ形をかきましょう。

