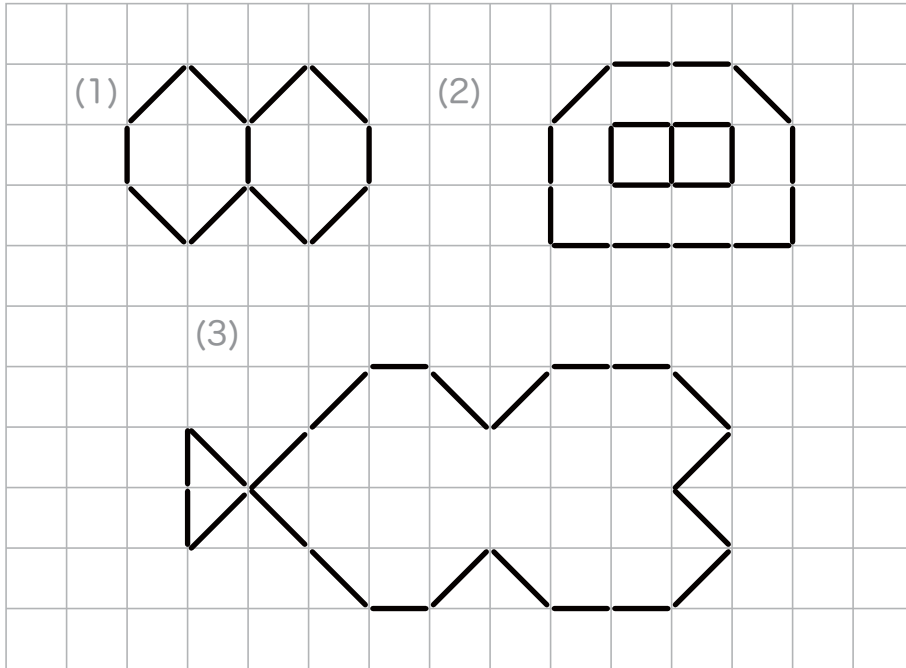


★つぎのかくもんだいの、しつもんにかたえて、こたえをかきましょう。

つぎの形は、ぼうがなん本でできているでしょう。



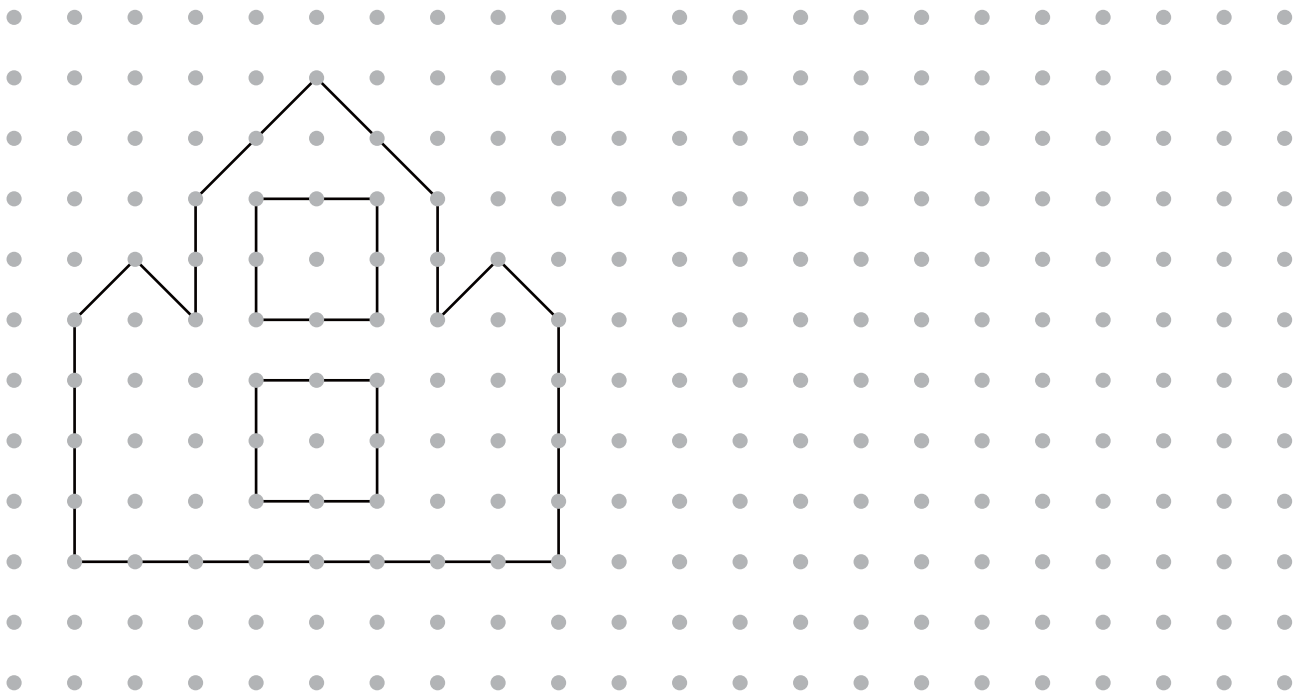
こたえ (1) _____

こたえ (2) _____

こたえ (3) _____

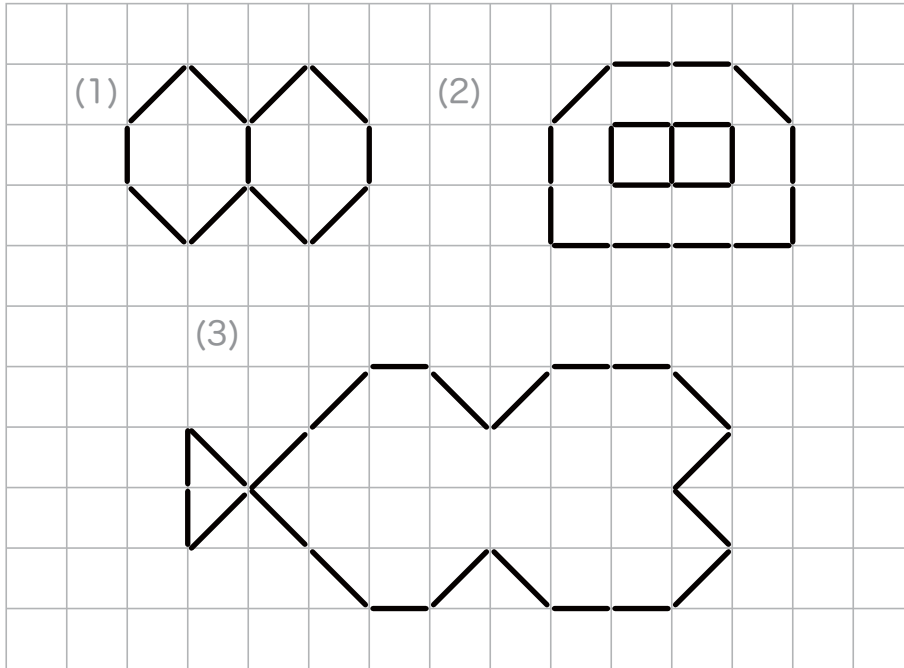
■■■■家庭学習でご利用の場合のみ無償でご利用頂けます。それ以外是有償となりますのでご注意ください。■■■■

点を、それぞれ線につないで、下の形と同じ形をかきましょう。



★つぎのかくもんだいの、しつもんにかたえて、こたえをかきましょう。

つぎの形は、ぼうがなん本でできているでしょう。



こたえ(1) 11本

こたえ(2) 19本

こたえ(3) 22本

■■■■家庭学習でご利用の場合のみ無償でご利用頂けます。それ以外是有償となりますのでご注意ください。■■■■

点を、それぞれ線につないで、下の形と同じ形をかきましょう。

