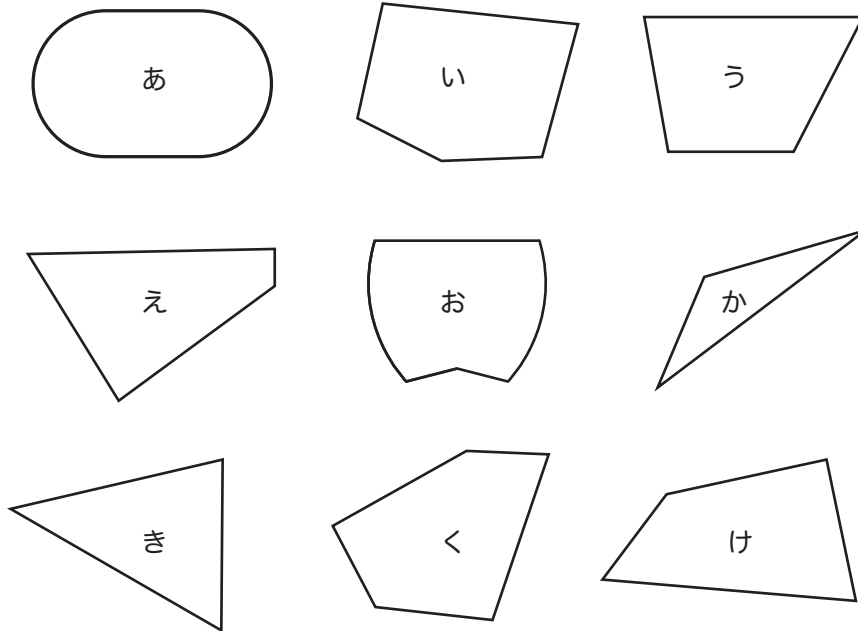


★つぎのかくもんだいの、しつもんにかたえて、こたえをかきましょう。

下のなかから、三角形と四角形をみつけて、それぞれきこうでこたえましょう。




三角形 _____

四角形 _____

■■■■家庭学習でご利用の場合のみ無償でご利用頂けます。それ以外は無償となりますのでご注意ください。■■■■

下の三角形と四角形に、直線を1本かいて、つぎの形をつくりましょう。

(1) 2つの三角形にわけてください。 (2) 三角形と四角形にわけてください。



四角形には角が つあります。

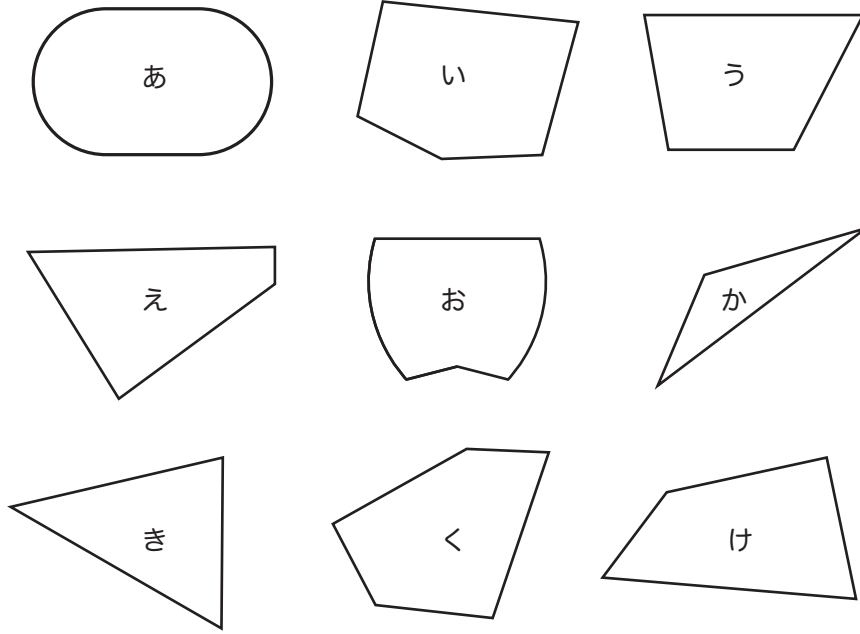
こたえ _____

角のひとつが直角の三角形を といいます。

こたえ _____

★つぎのかくもんだいの、しつもんにかたえて、こたえをかきましょう。

下のなかから、三角形と四角形をみつけて、それぞれきこうでこたえましょう。



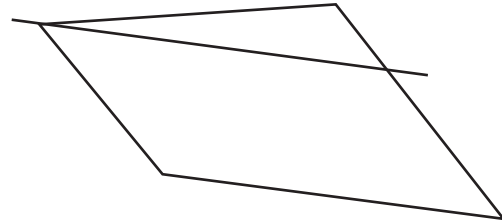
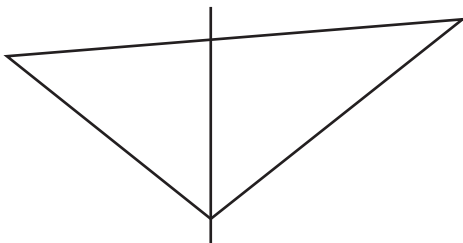
三角形 か、き

四角形 う、え、け

■■■■家庭学習でご利用の場合のみ無償でご利用頂けます。それ以外は無償となりますのでご注意ください。■■■■

下の三角形と四角形に、直線を1本かいて、つぎの形をつくりましょう。

(1) 2つの三角形にわけてください。 (2) 三角形と四角形にわけてください。



四角形には角が つあります。

こたえ 4

角のひとつが直角の三角形を といいます。

こたえ 直角三角形