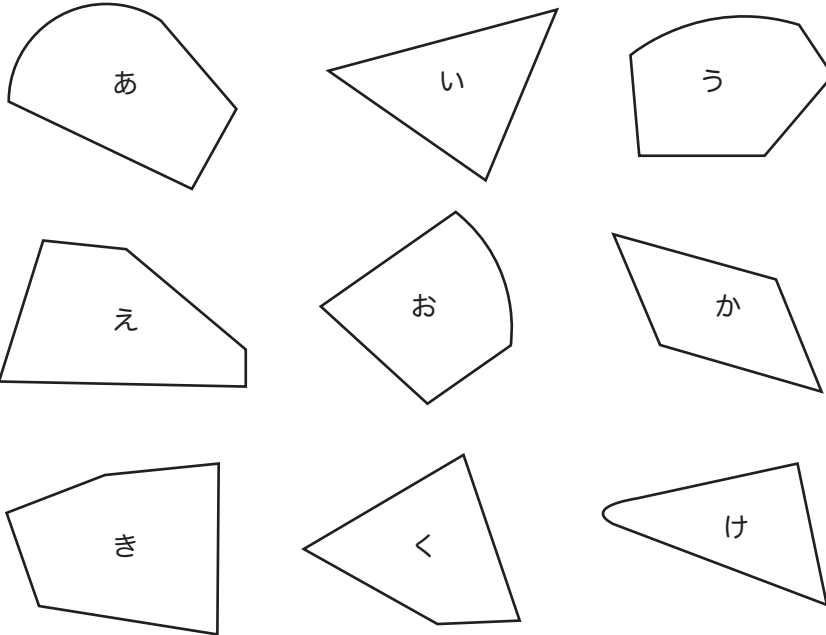


★つぎのかくもんだいの、しつもんにかたえて、こたえをかきましょう。

下のなかから、三角形と四角形をみつけて、それぞれきこうでこたえましょう。



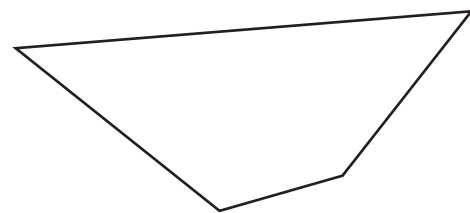
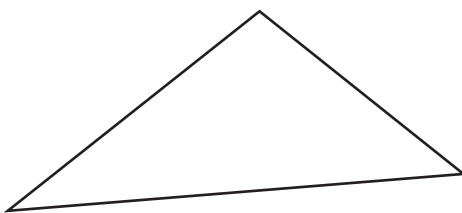
三角形 _____

四角形 _____


■■■■家庭学習でご利用の場合のみ無償でご利用頂けます。それ以外は無償となりますのでご注意ください。■■■■

下の三角形と四角形に、直線を1本かいて、つぎの形をつくりましょう。

(1) 2つの三角形にわけてください。 (2) 三角形と四角形にわけてください。




3本の直線でかこまれた形を



といいます。

こたえ

4本の直線でかこまれた形を

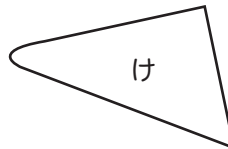
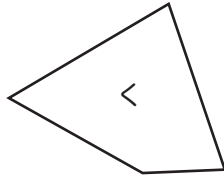
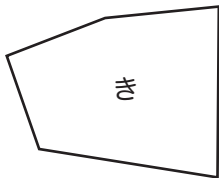
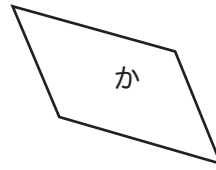
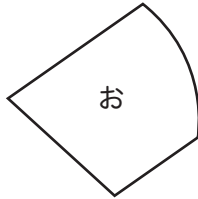
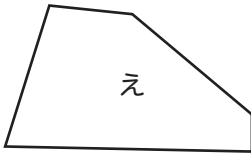
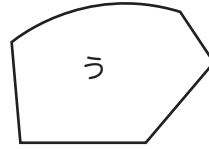
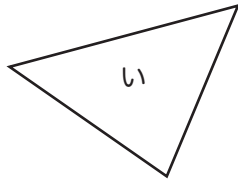
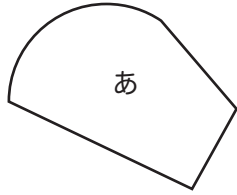


といいます。

こたえ

★つぎのかくもんだいの、しつもんにかたえて、こたえをかきましょう。

下のなかから、三角形と四角形をみつけて、それぞれきこうでこたえましょう。



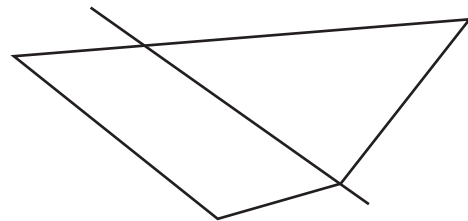
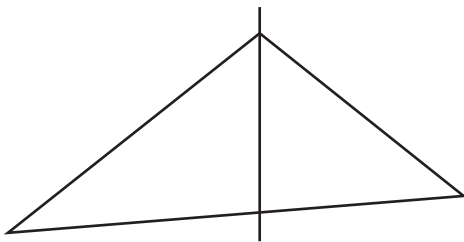
三角形 い

四角形 え、か、く

■■■■家庭学習でご利用の場合のみ無償でご利用頂けます。それ以外は無償となりますのでご注意ください。■■■■

下の三角形と四角形に、直線を1本かいて、つぎの形をつくりましょう。

(1) 2つの三角形にわけてください。 (2) 三角形と四角形にわけてください。




3本の直線でかこまれた形を



といいます。

こたえ 三角形

4本の直線でかこまれた形を



といいます。

こたえ 四角形