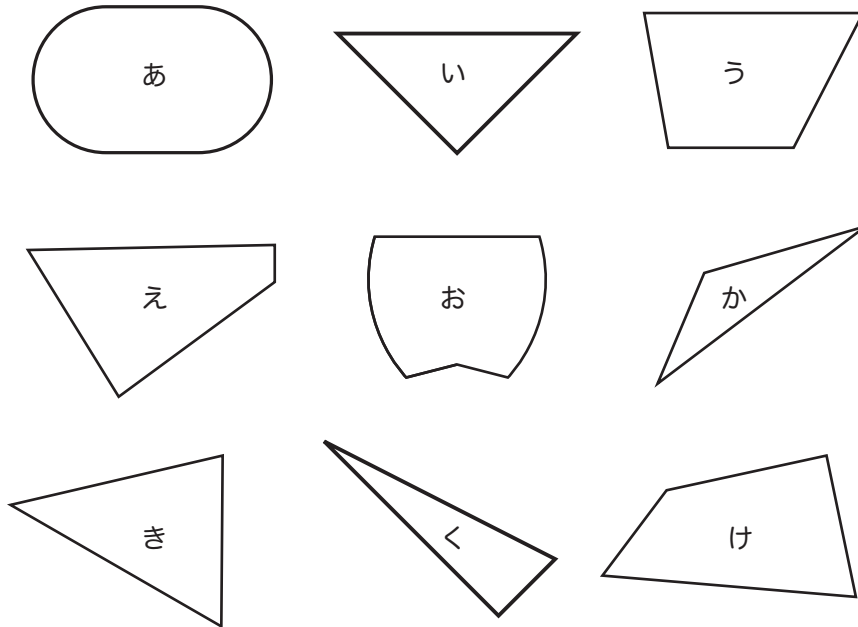


★つぎのかくもんだいの、しつもんにかたえて、こたえをかきましょう。

下のなかから、直角三角形をみつけて、記号でこたえましょう。

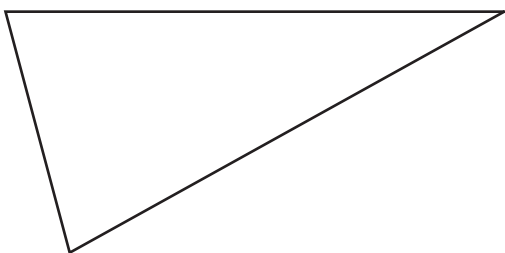


こたえ \_\_\_\_\_


■■■■家庭学習でご利用の場合のみ無償でご利用頂けます。それ以外は無償となりますのでご注意ください。■■■■

下の三角形と四角形に、直線を1本かいて、2つの直角三角形をつくりましょう。

(1)



(2)



角がすべて直角になっている四角形を



といいます。

こたえ \_\_\_\_\_

正方形は、辺の長さがすべて

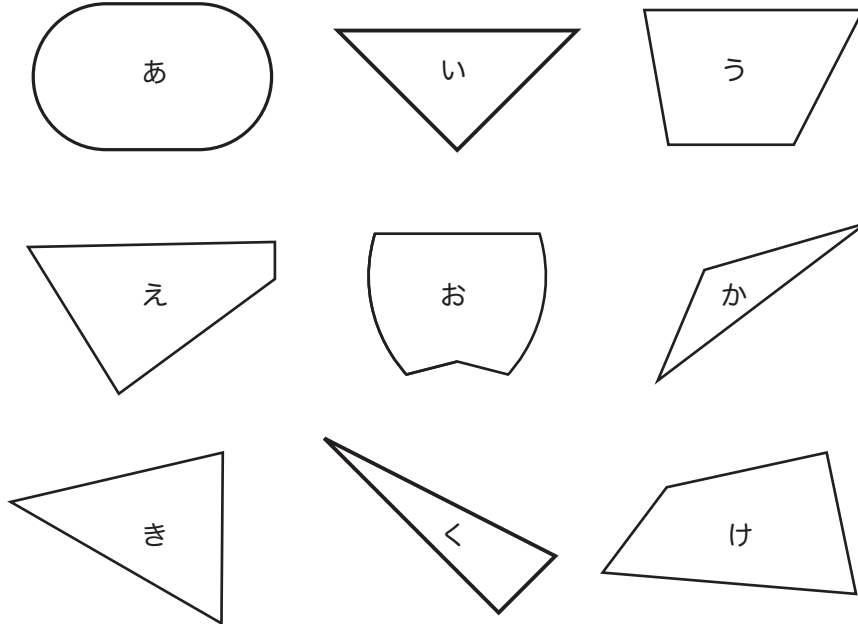


です。

こたえ \_\_\_\_\_

★つぎのかくもんだいの、しつもんにかたえて、こたえをかきましょう。

下のなかから、直角三角形をみつけて、記号でこたえましょう。

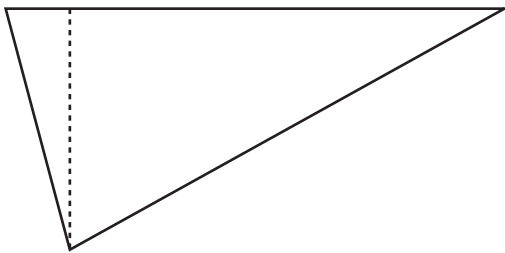


こたえ い、く

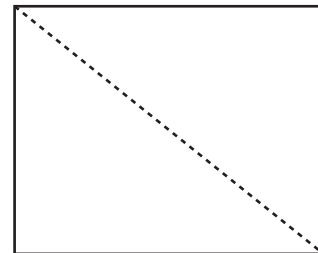
■■■■家庭学習でご利用の場合のみ無償でご利用頂けます。それ以外は無償となりませんのでご注意ください。■■■■

下の三角形と四角形に、直線を1本かいて、2つの直角三角形をつくりましょう。

(1)



(2)



角がすべて直角になっている四角形を



といいます。

こたえ 長方形

正方形は、辺の長さがすべて



です。

こたえ 同じ